

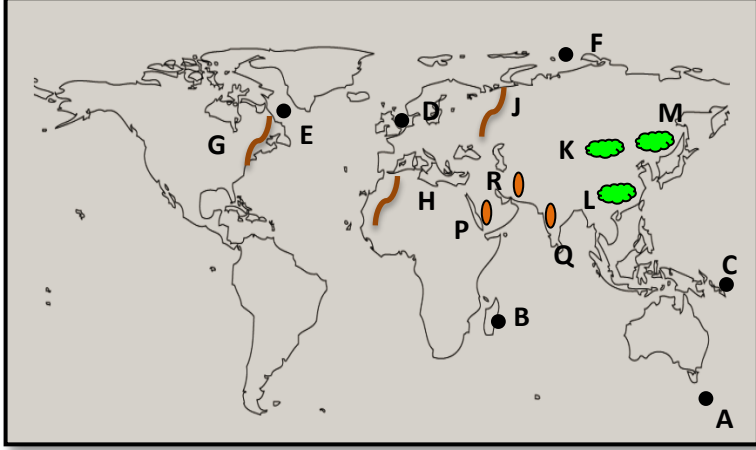
கல்விப் பொதுத் தராதர சாதாரண தர மாணவர்களுக்கான
புவியியல் படப்பயிற்சி முகாம் - 2023



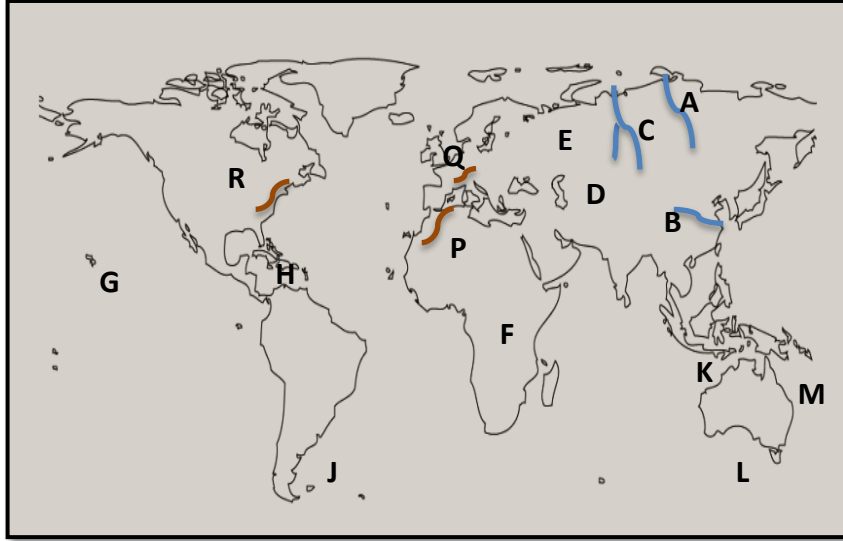
கல்குடா வலயக் கல்வி அலுவலகம்
வாழைச்சேனை



- உமக்கு வழங்கப்பட்டுள்ள உலகப்படத்தைக் கவனமாகப் பரிசீலித்துக் கேட்கப்பட்டுள்ள வினாக்களுக்கு விடை எழுதுக.

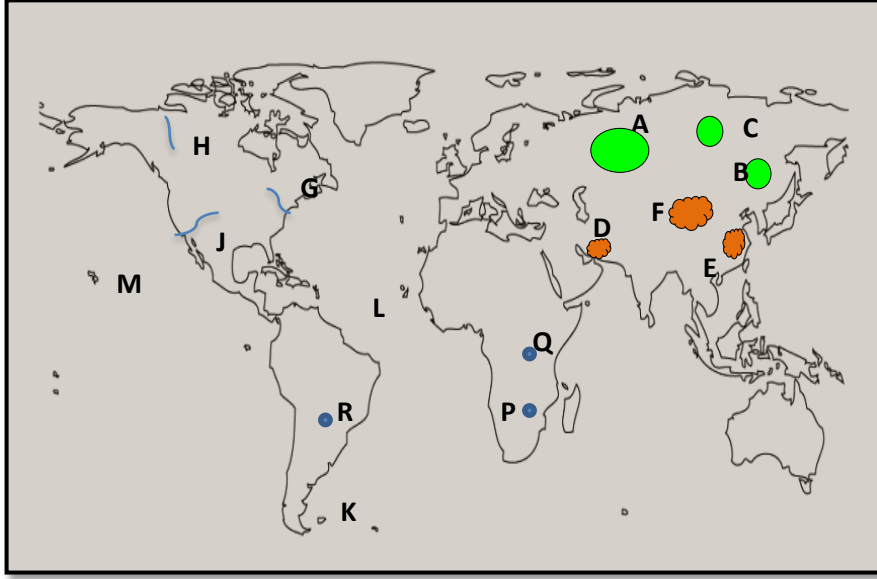


- AB மற்றும் C ஆகிய எழுத்துக்களால் குறித்துக்காட்டப்பட்டுள்ள தீவுகளுள் ஆபிரிக்க கண்டமேடையினுள் அமைந்துள்ள **மடகஸ்கார்** தீவைக் குறித்துக் காட்டும் எழுத்து எது?
- DE மற்றும் F ஆகிய எழுத்துக்களால் குறித்துக்காட்டப்பட்டுள்ள கடல்களுள் **பால்டிக்** கடலைக் குறித்துக் காட்டும் எழுத்து எது?
- GH மற்றும் J ஆகிய எழுத்துக்களால் குறித்துக்காட்டப்பட்டுள்ள மலைகளுள் **யூரல்** மலையைக் குறித்துக் காட்டும் எழுத்து எது?
- KL மற்றும் M ஆகிய எழுத்துக்களால் குறித்துக்காட்டப்பட்டுள்ள சமவெளிகளுள் **வடசீனக்** சமவெளியைக் குறித்துக் காட்டும் எழுத்து எது?
- PQ மற்றும் R ஆகிய எழுத்துக்களால் குறித்துக்காட்டப்பட்டுள்ள மேட்டுநிலங்களுள் **அரேபிய** மேட்டுநிலத்தைக் குறித்துக் காட்டும் எழுத்து எது?

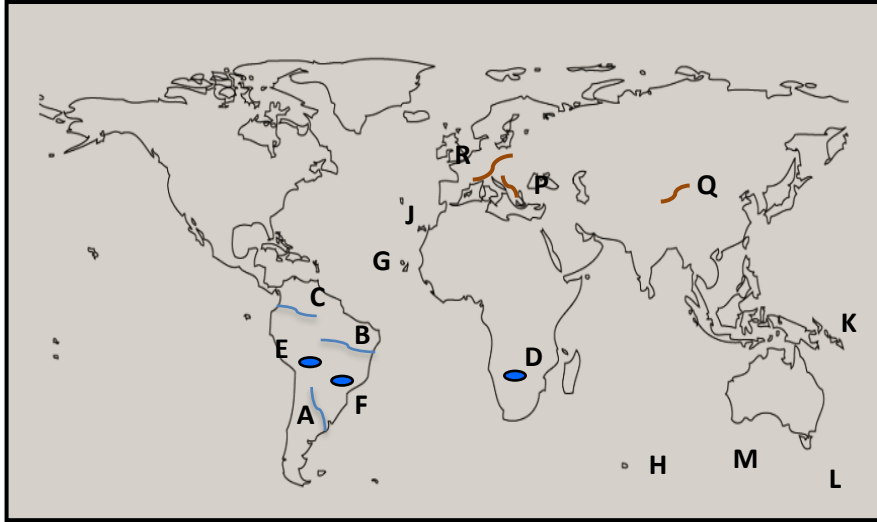


- AB மற்றும் C ஆகிய எழுத்துக்களால் குறித்துக்காட்டப்பட்டுள்ள நதிகளுள் **யென்சி** நதியைக் குறித்துக் காட்டும் எழுத்து எது?
- DE மற்றும் F ஆகிய எழுத்துக்களால் குறித்துக்காட்டப்பட்டுள்ள ஏரிகளுள் **பஸ்கால்** ஏரியைக் குறித்துக் காட்டும் எழுத்து எது?
- GH மற்றும் J ஆகிய எழுத்துக்களால் குறித்துக்காட்டப்பட்டுள்ள தீவுகளுள் **யமேக்கா** தீவைக் குறித்துக் காட்டும் எழுத்து எது?
- KL மற்றும் M ஆகிய எழுத்துக்களால் குறித்துக்காட்டப்பட்டுள்ள கடல்களுள் **தைமூர்** கடலைக் குறித்துக் காட்டும் எழுத்து எது?
- PQ மற்றும் R ஆகிய எழுத்துக்களால் குறித்துக்காட்டப்பட்டுள்ள மலைகளுள் **அப்பலாச்சியன்** மலையைக் குறித்துக் காட்டும் எழுத்து எது?

❖ உமக்கு வழங்கப்பட்டுள்ள உலகப்படத்தைக் கவனமாகப் பரிசீலித்துக் கேட்கப்பட்டுள்ள வினாக்களுக்கு விடை எழுதுக.

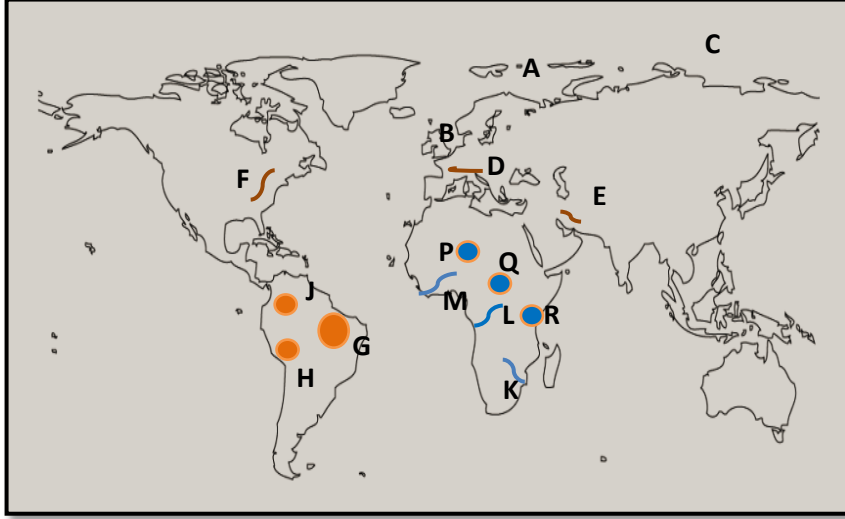


- I. AB மற்றும் C ஆகிய எழுத்துக்களால் குறித்துக்காட்டப்பட்டுள்ள சமவெளிகளுள் **சைபீரியன்** சமவெளியைக் குறித்துக் காட்டும் எழுத்து எது?
- II. DE மற்றும் F ஆகிய எழுத்துக்களால் குறித்துக்காட்டப்பட்டுள்ள மேட்டுநிலங்களுள் **மொங்கோலியன்** மேட்டுநிலத்தைக் குறித்துக் காட்டும் எழுத்து எது?
- III. GH மற்றும் J ஆகிய எழுத்துக்களால் குறித்துக்காட்டப்பட்டுள்ள நதிகளுள் **மக்கன்சி** நதியைக் குறித்துக் காட்டும் எழுத்து எது?
- IV. KL மற்றும் M ஆகிய எழுத்துக்களால் குறித்துக்காட்டப்பட்டுள்ள தீவுகளுள் **போக்லண்ட்** தீவைக் குறித்துக் காட்டும் எழுத்து எது?
- V. PQ மற்றும் R ஆகிய எழுத்துக்களால் குறித்துக்காட்டப்பட்டுள்ள ஏரிகளுள் **நயாக்ரா** ஏரியைக் குறித்துக் காட்டும் எழுத்து எது?

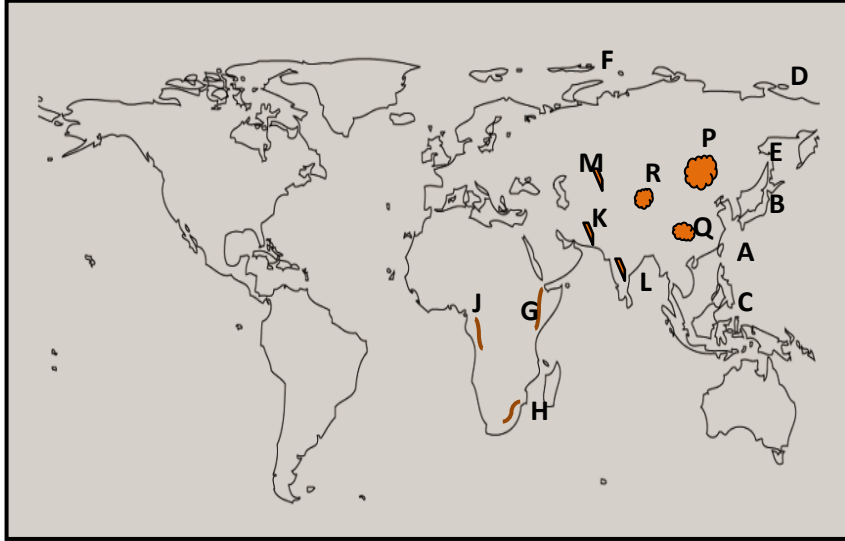


- I. AB மற்றும் C ஆகிய எழுத்துக்களால் குறித்துக்காட்டப்பட்டுள்ள நதிகளுள் **பரானா** நதியைக் குறித்துக் காட்டும் எழுத்து எது?
- II. DE மற்றும் F ஆகிய எழுத்துக்களால் குறித்துக்காட்டப்பட்டுள்ள ஏரிகளுள் **தித்திக்கா** ஏரியைக் குறித்துக் காட்டும் எழுத்து எது?
- III. GH மற்றும் J ஆகிய எழுத்துக்களால் குறித்துக்காட்டப்பட்டுள்ள தீவுகளுள் **கனேரிஸ்** தீவைக் குறித்துக் காட்டும் எழுத்து எது?
- IV. KL மற்றும் M ஆகிய எழுத்துக்களால் குறித்துக்காட்டப்பட்டுள்ள கடல்களுள் **அரபுராக்** கடலைக் குறித்துக் காட்டும் எழுத்து எது?
- V. PQ மற்றும் R ஆகிய எழுத்துக்களால் குறித்துக்காட்டப்பட்டுள்ள மலைகளுள் **அல்ட்ராய்** மலையைக் குறித்துக் காட்டும் எழுத்து எது?

❖ உமக்கு வழங்கப்பட்டுள்ள உலகப்படத்தைக் கவனமாகப் பரிசீலித்துக் கேட்கப்பட்டுள்ள வினாக்களுக்கு விடை எழுதுக.

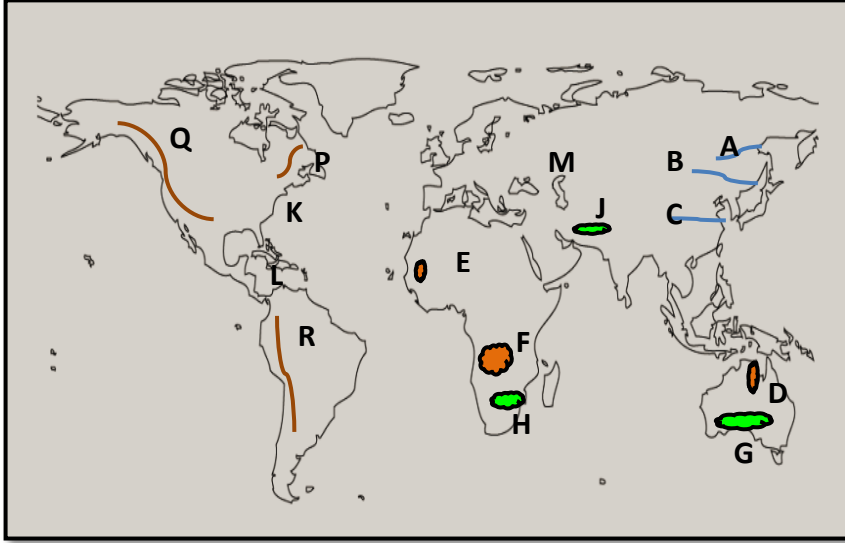


- I. AB மற்றும் C ஆகிய எழுத்துக்களால் குறித்துக்காட்டப்பட்டுள்ள கடல்களுள் **வட கடலைக்** குறித்துக் காட்டும் எழுத்து எது?
- II. DE மற்றும் F ஆகிய எழுத்துக்களால் குறித்துக்காட்டப்பட்டுள்ள மலைகளுள் **அல்பஸ்** மலையைக் குறித்துக் காட்டும் எழுத்து எது?
- III. GH மற்றும் J ஆகிய எழுத்துக்களால் குறித்துக்காட்டப்பட்டுள்ள மேட்டுநிலங்களுள் **பிறேசிலியன்** மேட்டுநிலத்தைக் குறித்துக் காட்டும் எழுத்து எது?
- IV. KL மற்றும் M ஆகிய எழுத்துக்களால் குறித்துக்காட்டப்பட்டுள்ள நதிகளுள் **கொங்கோ** நதியைக் குறித்துக் காட்டும் எழுத்து எது?
- V. PQ மற்றும் R ஆகிய எழுத்துக்களால் குறித்துக்காட்டப்பட்டுள்ள ஏரிகளுள் **சாட் ஏரியைக்** குறித்துக் காட்டும் எழுத்து எது?

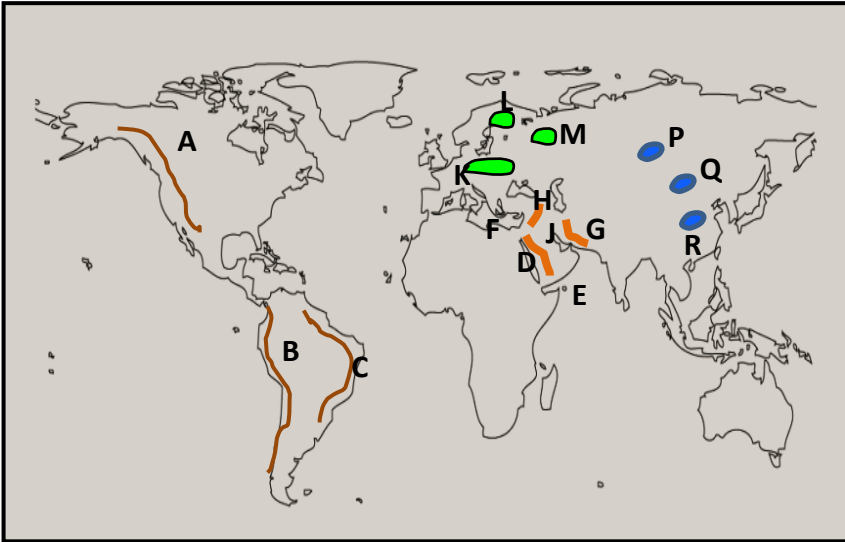


- I. AB மற்றும் C ஆகிய எழுத்துக்களால் குறித்துக்காட்டப்பட்டுள்ள தீவுகளுள் **தாய்வான்** தீவைக் குறித்துக் காட்டும் எழுத்து எது?
- II. DE மற்றும் F ஆகிய எழுத்துக்களால் குறித்துக்காட்டப்பட்டுள்ள கடல்களுள் **ஓஸ்கொஸ்ட்** கடலைக் குறித்துக் காட்டும் எழுத்து எது?
- III. GH மற்றும் J ஆகிய எழுத்துக்களால் குறித்துக்காட்டப்பட்டுள்ள மலைகளுள் **டிராக்கன்பேர்க்** மலையைக் குறித்துக் காட்டும் எழுத்து எது?
- IV. KL மற்றும் M ஆகிய எழுத்துக்களால் குறித்துக்காட்டப்பட்டுள்ள மேட்டுநிலங்களுள் **தக்கண** மேட்டுநிலத்தைக் குறித்துக் காட்டும் எழுத்து எது?
- V. PQ மற்றும் R ஆகிய எழுத்துக்களால் குறித்துக்காட்டப்பட்டுள்ள சமவெளிகளுள் **மஞ்சரியா** சமவெளியைக் குறித்துக் காட்டும் எழுத்து எது?

❖ உமக்கு வழங்கப்பட்டுள்ள உலகப்படத்தைக் கவனமாகப் பரிசீலித்துக் கேட்கப்பட்டுள்ள வினாக்களுக்கு விடை எழுதுக.

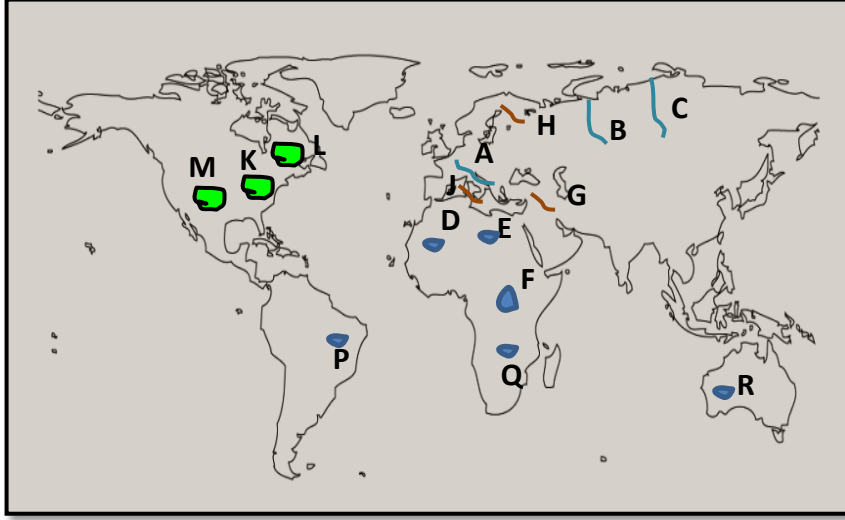


- I. AB மற்றும் C ஆகிய எழுத்துக்களால் குறித்துக்காட்டப்பட்டுள்ள நதிகளுள் அழர் நதியைக் குறித்துக் காட்டும் எழுத்து எது?
- II. DE மற்றும் F ஆகிய எழுத்துக்களால் குறித்துக்காட்டப்பட்டுள்ள மேட்டுநிலங்களுள் பீ மேட்டுநிலத்தைக் குறித்துக் காட்டும் எழுத்து எது?
- III. GH மற்றும் J ஆகிய எழுத்துக்களால் குறித்துக்காட்டப்பட்டுள்ள சமவெளிகளுள் நுல்லபார் சமவெளியைக் குறித்துக் காட்டும் எழுத்து எது?
- IV. KL மற்றும் M ஆகிய எழுத்துக்களால் குறித்துக்காட்டப்பட்டுள்ள கடல்களுள் கரீபியன் கடலைக் குறித்துக் காட்டும் எழுத்து எது?
- V. PQ மற்றும் R ஆகிய எழுத்துக்களால் குறித்துக்காட்டப்பட்டுள்ள மலைகளுள் றொக்கி மலையைக் குறித்துக் காட்டும் எழுத்து எது?

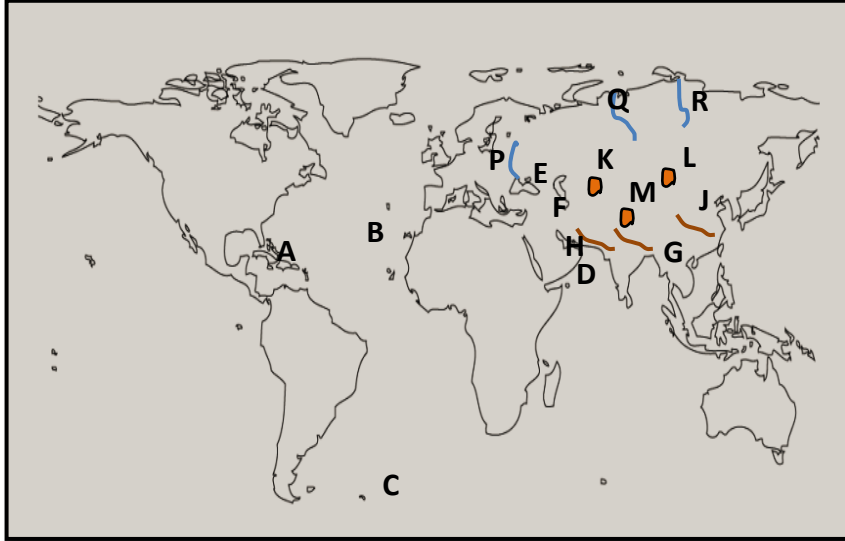


- I. AB மற்றும் C ஆகிய எழுத்துக்களால் குறித்துக்காட்டப்பட்டுள்ள மலைகளுள் அந்தீஸ் மலையைக் குறித்துக் காட்டும் எழுத்து எது?
- II. DE மற்றும் F ஆகிய எழுத்துக்களால் குறித்துக்காட்டப்பட்டுள்ள கடல்களுள் செங்கடலைக் குறித்துக் காட்டும் எழுத்து எது?
- III. GH மற்றும் J ஆகிய எழுத்துக்களால் குறித்துக்காட்டப்பட்டுள்ள மேட்டுநிலங்களுள் ஈரானிய மேட்டுநிலத்தைக் குறித்துக் காட்டும் எழுத்து எது?
- IV. KL மற்றும் M ஆகிய எழுத்துக்களால் குறித்துக்காட்டப்பட்டுள்ள சமவெளிகளுள் வடஐரோப்பிய சமவெளியைக் குறித்துக் காட்டும் எழுத்து எது?
- V. PQ மற்றும் R ஆகிய எழுத்துக்களால் குறித்துக்காட்டப்பட்டுள்ள ஏரிகளுள் பைக்கால் ஏரியைக் குறித்துக் காட்டும் எழுத்து எது?

❖ உமக்கு வழங்கப்பட்டுள்ள உலகப்படத்தைக் கவனமாகப் பரிசீலித்துக் கேட்கப்பட்டுள்ள வினாக்களுக்கு விடை எழுதுக.

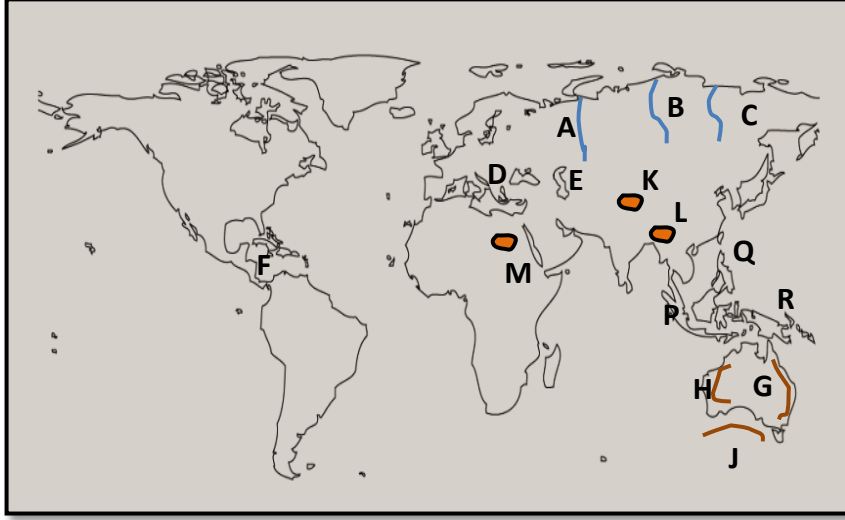


- I. AB மற்றும் C ஆகிய எழுத்துக்களால் குறித்துக்காட்டப்பட்டுள்ள நதிகளுள் **டன்யூப்** நதியைக் குறித்துக் காட்டும் எழுத்து எது?
- II. DE மற்றும் F ஆகிய எழுத்துக்களால் குறித்துக்காட்டப்பட்டுள்ள ஏரிகளுள் **விக்டோரியா** ஏரியைக் குறித்துக் காட்டும் எழுத்து எது?
- III. GH மற்றும் J ஆகிய எழுத்துக்களால் குறித்துக்காட்டப்பட்டுள்ள மலைகளுள் **அப்பினைன்** மலையைக் குறித்துக் காட்டும் எழுத்து எது?
- IV. KL மற்றும் M ஆகிய எழுத்துக்களால் குறித்துக்காட்டப்பட்டுள்ள சமவெளிகளுள் **வடஅமெரிக்க** சமவெளியைக் குறித்துக் காட்டும் எழுத்து எது?
- V. PQ மற்றும் R ஆகிய எழுத்துக்களால் குறித்துக்காட்டப்பட்டுள்ள ஏரிகளுள் **தங்கணிக்கா** ஏரியைக் குறித்துக் காட்டும் எழுத்து எது?

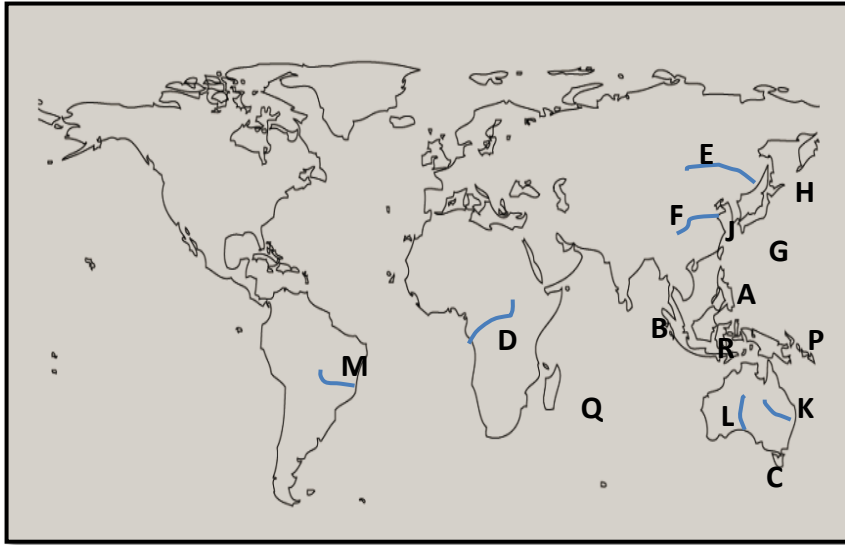


- I. AB மற்றும் C ஆகிய எழுத்துக்களால் குறித்துக்காட்டப்பட்டுள்ள தீவுகளுள் **பகாமஸ்** தீவைக் குறித்துக் காட்டும் எழுத்து எது?
- II. DE மற்றும் F ஆகிய எழுத்துக்களால் குறித்துக்காட்டப்பட்டுள்ள கடல்களுள் **கஸ்பியன்** கடலைக் குறித்துக் காட்டும் எழுத்து எது?
- III. GH மற்றும் J ஆகிய எழுத்துக்களால் குறித்துக்காட்டப்பட்டுள்ள மலைத்தொடர்களுள் **இமய** மலைத்தொடரைக் குறித்துக் காட்டும் எழுத்து எது?
- IV. KL மற்றும் M ஆகிய எழுத்துக்களால் குறித்துக்காட்டப்பட்டுள்ள மேட்டுநிலங்களுள் **பமீர்** மேட்டுநிலத்தைக் குறித்துக் காட்டும் எழுத்து எது?
- V. PQ மற்றும் R ஆகிய எழுத்துக்களால் குறித்துக்காட்டப்பட்டுள்ள நதிகளுள் **வொல்கா** நதியைக் குறித்துக் காட்டும் எழுத்து எது?

❖ உமக்கு வழங்கப்பட்டுள்ள உலகப்படத்தைக் கவனமாகப் பரிசீலித்துக் கேட்கப்பட்டுள்ள வினாக்களுக்கு விடை எழுதுக.



- I. AB மற்றும் C ஆகிய எழுத்துக்களால் குறித்துக்காட்டப்பட்டுள்ள நதிகளுள் லீனா நதியைக் குறித்துக் காட்டும் எழுத்து எது?
- II. DE மற்றும் F ஆகிய எழுத்துக்களால் குறித்துக்காட்டப்பட்டுள்ள கடல்களுள் கருங் கடலைக் குறித்துக் காட்டும் எழுத்து எது?
- III. GH மற்றும் J ஆகிய எழுத்துக்களால் குறித்துக்காட்டப்பட்டுள்ள மலைத்தொடர்களுள் பெரிய பிரிப்பு மலைத்தொடரைக் குறித்துக் காட்டும் எழுத்து எது?
- IV. KL மற்றும் M ஆகிய எழுத்துக்களால் குறித்துக்காட்டப்பட்டுள்ள மேட்டுநிலங்களுள் திபெத் மேட்டுநிலத்தைக் குறித்துக் காட்டும் எழுத்து எது?
- V. PQ மற்றும் R ஆகிய எழுத்துக்களால் குறித்துக்காட்டப்பட்டுள்ள தீவுகளுள் பிலிப்பைன்ஸ் தீவைக் குறித்துக் காட்டும் எழுத்து எது?



- I. AB மற்றும் C ஆகிய எழுத்துக்களால் குறித்துக்காட்டப்பட்டுள்ள தீவுகளுள் சுமாதீப தீவைக் குறித்துக் காட்டும் எழுத்து எது?
- II. DE மற்றும் F ஆகிய எழுத்துக்களால் குறித்துக்காட்டப்பட்டுள்ள நதிகளுள் குவாங்கோ நதியைக் குறித்துக் காட்டும் எழுத்து எது?
- III. GH மற்றும் J ஆகிய எழுத்துக்களால் குறித்துக்காட்டப்பட்டுள்ள கடல்களுள் மஞ்சள் கடலைக் குறித்துக் காட்டும் எழுத்து எது?
- IV. KL மற்றும் M ஆகிய எழுத்துக்களால் குறித்துக்காட்டப்பட்டுள்ள நதிகளுள் மறேடாலிங் நதியைக் குறித்துக் காட்டும் எழுத்து எது?
- V. PQ மற்றும் R ஆகிய எழுத்துக்களால் குறித்துக்காட்டப்பட்டுள்ள தீவுகளுள் யாவா தீவைக் குறித்துக் காட்டும் எழுத்து எது?

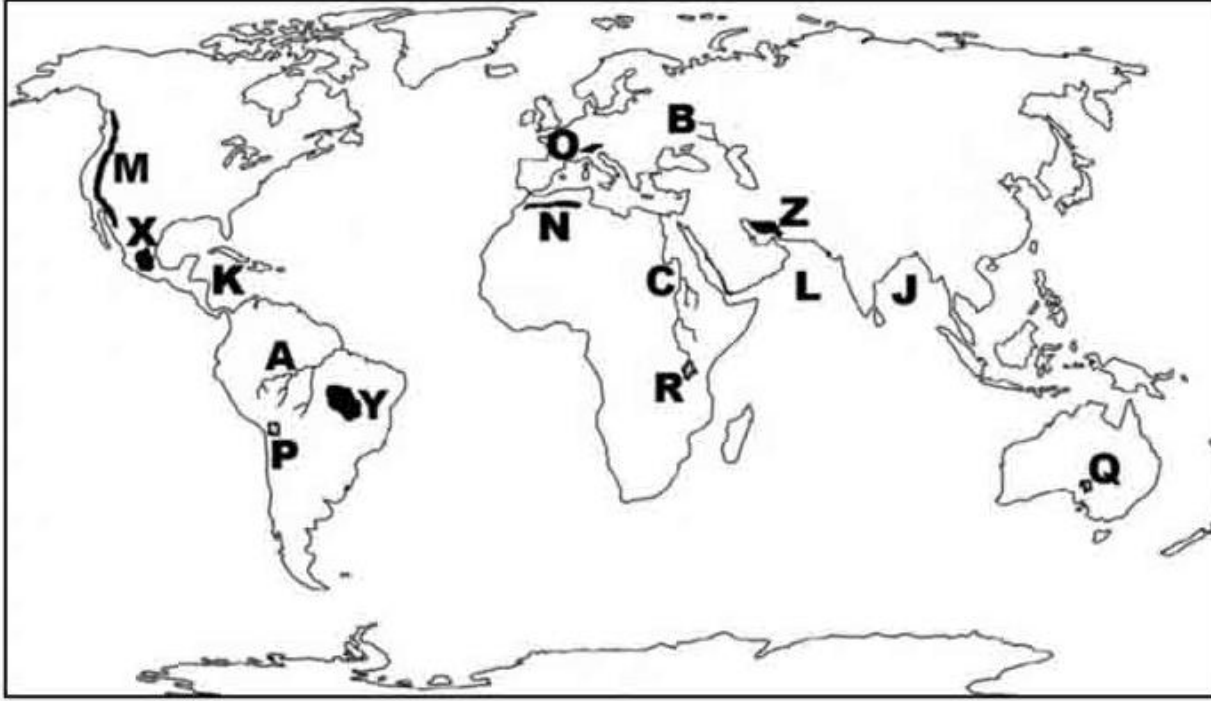
❖ 1 தொடக்கம் 5 வரையுள்ள ஒவ்வொரு வினாவுக்கும் முன்னால் மூன்று ஆங்கில எழுத்துக்கள் தரப்பட்டுள்ளன. உலகப்படத்திலிருந்து ஒவ்வொரு வினாவுக்கும் உரிய சரியான விடையைத் தெரிவு செய்து அதனை உலகப்படத்தின் அருகிலுள்ள நிரலில் ஒவ்வொரு வினா இலக்கத்திற்கும் எதிரே உள்ள கூட்டினுள் எழுதுக.

- | | |
|------------------------|-------|
| (1) பிறனிஸ் மலை | W,X,Y |
| (2) தங்கணிக்கா ஏரி | N,O,P |
| (3) தாய்வான் தீவு | R,S,T |
| (4) கரீபியன் கடல் | K,L,M |
| (5) றியோடிஜெனிரோ நகரம் | B,C,D |



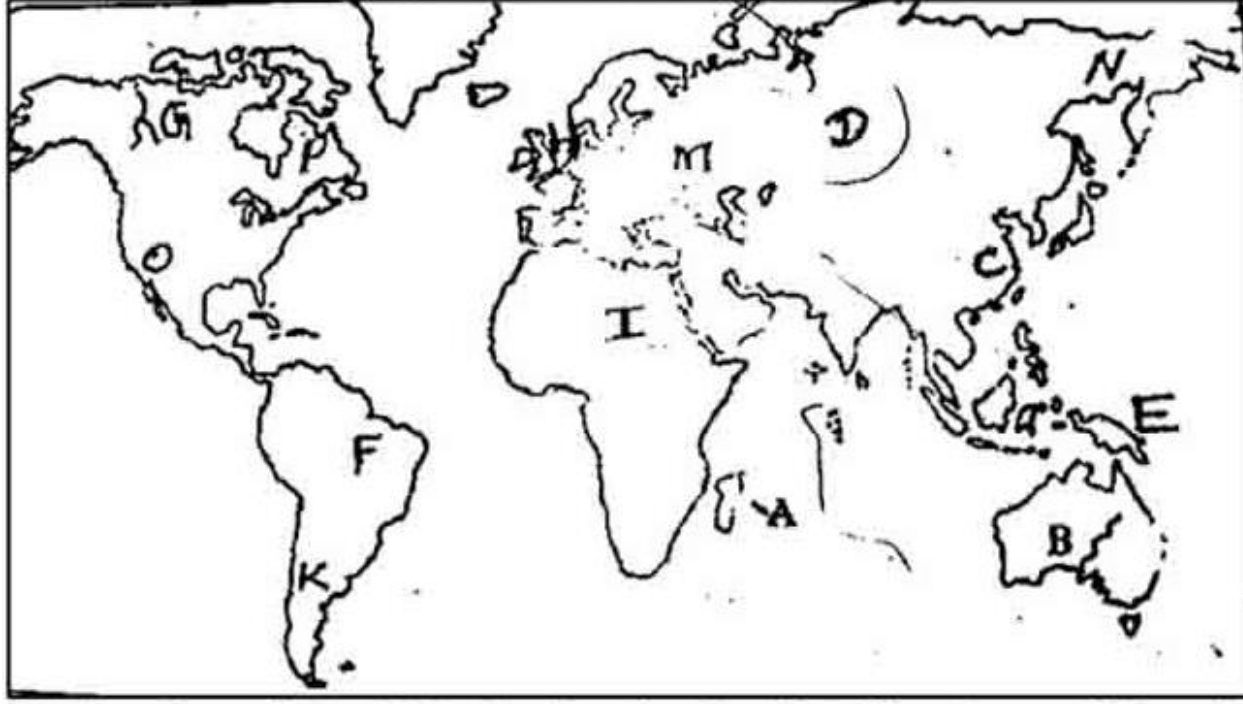
- i.
- ii.
- iii.
- iv.
- v.
- 5

❖ உமக்கு தரப்பட்ட உலகப் புறவுருவப்படத்தினை கவனமாக பரிசீலித்து கீழே தரப்பட்டுள்ள வினாக்களுக்கு விடை தருக.



1. A,B,Cஎனத் தரப்பட்ட எழுத்துக்களால் குறித்துக்காட்டப்படும் நதிகளுள் வொல்கா நதியினை குறிக்கும் எழுத்து யாது?
2. M,N,Oஎனத் தரப்பட்ட எழுத்துக்களால் குறித்துக்காட்டப்படும் மலைகளுள் அல்ப்ஸ் மலையை குறிக்கும் எழுத்து யாது?
3. J,K,Lஎனத் தரப்பட்ட எழுத்துக்களில் நதிகளுள் கரீபியன் கடலை குறிக்கும் எழுத்து யாது?
4. P,Q,Rஎனத் தரப்பட்ட எழுத்துக்களால் குறித்துக்காட்டப்படும் ஏரிகளுள் அயர் ஏரியினை குறிக்கும் எழுத்து யாது?
5. X,Y,Zஎனத் தரப்பட்ட எழுத்துக்களால் குறித்துக்காட்டப்படும் மேட்டு நிலங்களுள் ஈரான் மேட்டுநிலத்தைக் குறிக்கும் எழுத்து யாது?

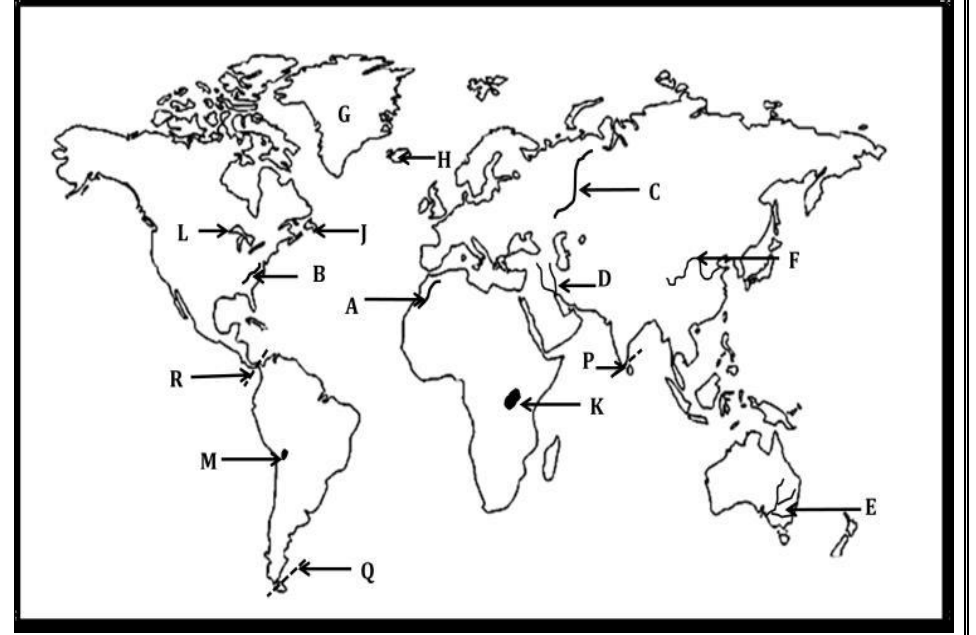
❖ உமக்கு தரப்பட்ட உலகப் புறவுருவப்படத்தினை கவனமாக பரிசீலித்து கீழே தரப்பட்டுள்ள வினாக்களுக்கு விடை தருக.



- i. G,F,K எனத் தரப்பட்ட எழுத்துக்களில் பிறேசிலியன் மேட்டுநிலம் குறிக்கும் எழுத்து யாது?
- ii. O,G,P எனத் தரப்பட்ட எழுத்துக்களில் மக்கன்சி நதி குறிக்கும் எழுத்து யாது?
- iii. A,I,M எனத் தரப்பட்ட எழுத்துக்களில் ஆபிரிக்க கண்ட மேடைக்குள் அமைந்துள்ள தீவினை குறிக்கும் எழுத்து யாது?
- iv. E,B,C எனத் தரப்பட்ட எழுத்துக்களில் ஆசியாவுக்கு வெளியில் நெய்செய்கை நடைபெறும் மறோடாலிங் பள்ளத்தாக்கு குறிக்கும்எழுத்துயாது?
- v. D,N,C எனத் தரப்பட்ட எழுத்துக்களில் கோதுமைச் செய்கையின் முன்னணி நாடான சீனாவினை குறிக்கும் எழுத்து யாது?

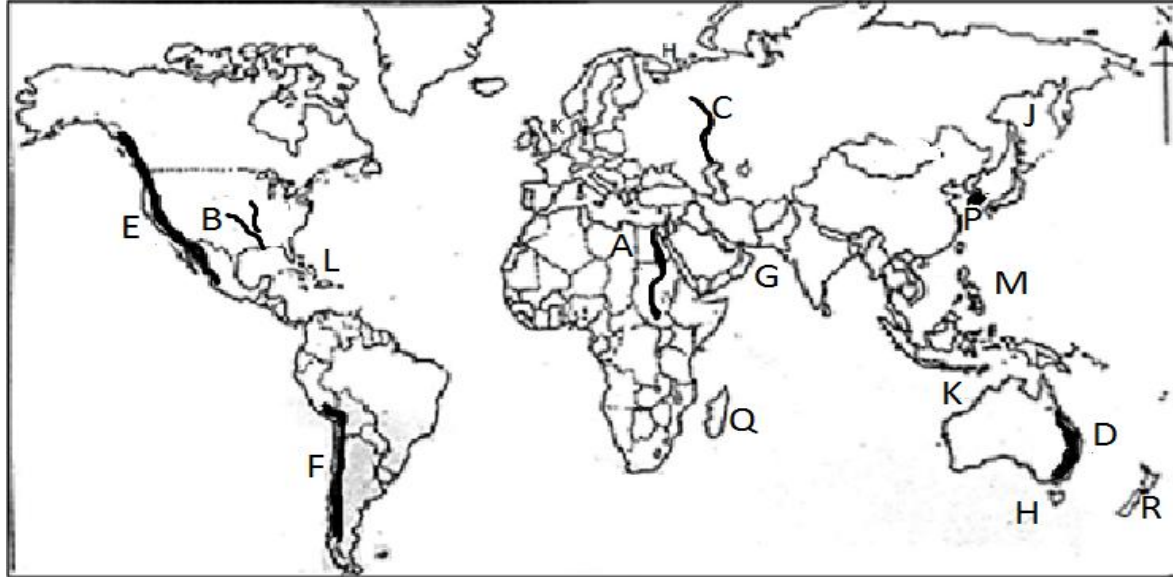
❖ உமக்கு வழங்கப்பட்டுள்ள உலகப் புறவரிப்படத்தினை அடிப்படையாகக் கொண்டு கீழ்வரும் வினாக்களுக்கு விடை எழுதுக.

1. A, B, C ஆகிய எழுத்துக்களில் யூரல் மலைத்தொடரினை குறிக்கும் எழுத்து எது?
.....
2. D, E, F ஆகிய எழுத்துக்களில் மறோடாலிங் நதியைக் குறிக்கும் எழுத்து எது?
.....
3. G, H, J ஆகிய எழுத்துக்களில் கிறீன்லாந்து தீவினைக் குறிக்கும் எழுத்து எது?
.....
4. K, L, M ஆகிய எழுத்துக்களில் ஐம்பெரும் ஏரிகளைக் குறிக்கும் எழுத்து எது?
.....
5. P, Q, R ஆகிய எழுத்துக்களில் பனாமாக் கால்வாயை குறிக்கும் எழுத்து எது?
.....

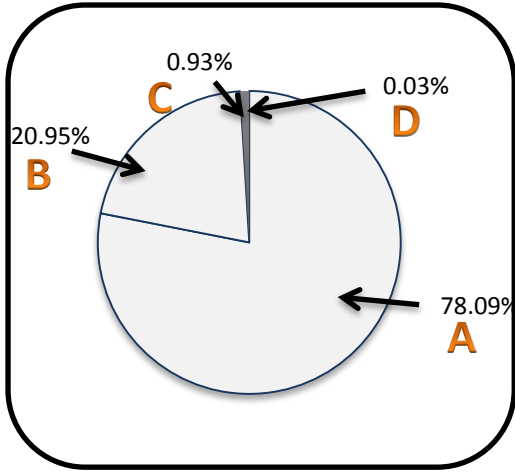


❖ உமக்குத் தரப்பட்டுள்ள உலகப் படத்தினை கவனமாக பரிசீலித்து கீழே தரப்பட்டுள்ள வினாக்களுக்கு விடை தருக.

- I. A, B மற்றும் C ஆகிய மூன்று எழுத்துக்களினால் குறித்துக் காட்டப்பட்டுள்ள மூன்று நதிகளுள் “மிசூரி மிசிசிப்பி” நதியினைக் குறிக்கும் எழுத்து யாது? (1 புள்ளி)
- II. D, E மற்றும் F ஆகிய மூன்று எழுத்துக்களினால் குறித்துக் காட்டப்பட்டுள்ள மூன்று மலைகளுள் “பெரிய பிரிப்பு” மலைத்தொடரினைக் குறிக்கும் எழுத்து யாது? (1 புள்ளி)
- III. G, H மற்றும் J ஆகிய மூன்று எழுத்துக்களில் “ஓக்கொட்ஸ்” கடலினைக் குறிக்கும் எழுத்து யாது? (1 புள்ளி)
- IV. K, L மற்றும் M ஆகிய மூன்று எழுத்துக்களினால் குறித்துக் காட்டப்பட்டுள்ள பகுதிகளுள் “ஹரிக்கேன்” எனும் சூறாவளியினால் பாதிக்கப்படும் சமுத்திரப் பகுதியினைக் குறிக்கும் எழுத்து யாது? (1 புள்ளி)
- V. P, Q மற்றும் R ஆகிய மூன்று எழுத்துக்களினால் குறித்துக் காட்டப்பட்டுள்ள நாடுகளுள் மோட்டார் வாகன உற்பத்தியில் முக்கியத்துவம் பெறும் “தென்கொரியா” நாட்டினைக் குறிக்கும் எழுத்து யாது? (1 புள்ளி)



I	
II	
III	
IV	
V	

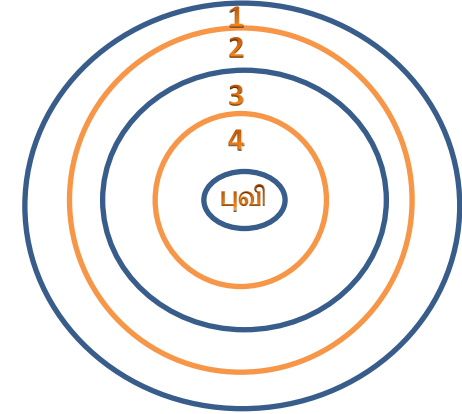


❖ புவியின் வளிமண்டலத்தின் அமைப்பிற்கேற்ப அதில் அடங்கியுள்ள பிரதான வாயுக்களின் சதவீத பெறுமானங்கள் அருகில் உள்ள வரிப்படத்தில் A,B,C,D ஆகிய எழுத்துக்களால் காட்டப்பட்டுள்ளன.

- A, B ஆகியவற்றால் காட்டப்படும் பிரதான வாயுக்கள் இரண்டினையும் முறையே பெயரிடுக?
- மாறன் மண்டலத்தின் 3 பிரதான பண்புகளைக் குறிப்பிடுக?
- தற்காலத்தில் வளிமண்டலத்தின் மாசுபடுத்தலுக்குக் காரணமான 3 மானிட நடவடிக்கைகளைக் குறிப்பிட்டு அவற்றில் ஒன்றினால் ஏற்படும் விளைவுகளை சுருக்கமாக விபரிக்க? (2018)

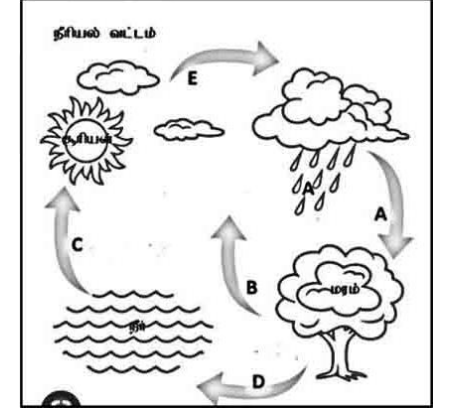
❖ அருகில் காணப்படும் வரைபடத்தில் வளிக்கோளத்தின் நான்குபடைகள் 1,2,3,4 ஆகிய இலக்கங்களினால் காட்டப்பட்டுள்ளன.

- (அ) மாறன் மண்டலத்தைக் குறிக்கும் இலக்கம் யாது?
(ஆ) படை மண்டலத்தைக் குறிக்கும் அலக்கம் யாது?
- (அ) மாறன் மண்டலத்தின் 02 சிறப்பியல்புகளைக் குறிப்பிடுக?
(ஆ) படை மண்டலம் மனித வர்க்கத்திற்கு மிக முக்கியமானது எனம் கருதுவதற்குரிய காரணமொன்றினைக் குறிப்பிடுக?
- (அ) உயிர்க்கோளத்தின் எல்லைகள் எவையென்பதை சுருக்கமாகக் குறிப்பிடுக?
(ஆ) உயிர்க்கோலத்தின் சமநிலையை அழிப்பதற்கு மனிதனால் ஏற்படுத்தப்பட்டுவரும் மோசமான பாதிப்புக்களை இரண்டு உதாரணங்களின் துணையுடன் விளக்குக. (2013)



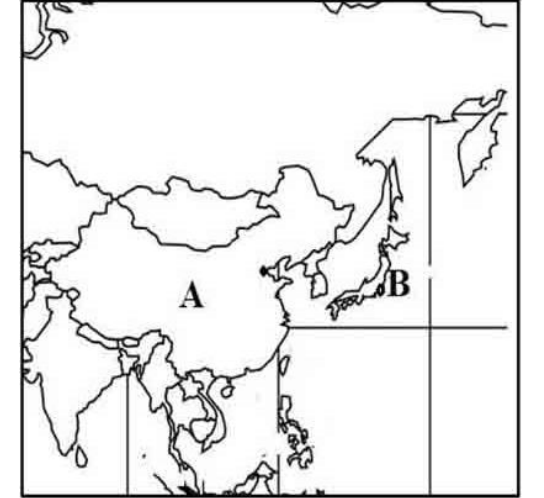
❖ நீரியல் வட்ட வரைபடம் அருகில் தரப்பட்டுள்ளது.

- நீரியல் வட்ட வரைபடத்தில் A,B எழுத்துக்களினால் குறித்துக்காட்டப்படும் செயன்முறையை முறையே தருக?
- நீரியல் வட்டத்தின் A செயன்முறையினால் மனிதனுக்குக் கிடைக்கப்பெறும் பயன்கள் 3 தருக?
- (அ) இலங்கையில் மிகப்பரந்தளவு தரைக்கீழ் நீரின் இருப்பு காணப்படும் இரண்டு இடங்களைத் தருக?
- (ஆ) நீர் மூலங்களைப் பாதுகாக்கும் இரண்டு வழிமுறைகளைக் குறிப்பிட்டு ஒன்றை விளக்குக?



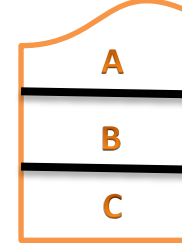
❖ அருகில் உள்ள படத்தை அடிப்படையாகக் கொண்டு விடை தருக

- உலகில் கப்பல் கட்டும் தொழிலில் பிரசித்தி பெற்ற A,B என்ற எழுத்துக்களால் குறித்துக்காட்டப்பட்ட நாடுகளைப் பெயரிடுக?
- கப்பல் கட்டும் தொழிலின் அண்மைக்காலப் போக்குகள் 3 தருக.
- அ) இலங்கையில் உற்பத்தி செய்யப்படும் படகுகளின் வகைகள் 2 தருக.
ஆ) இலங்கையில் படகுகட்டும் தொழிலில் ஏற்படும் இரண்டு பிரச்சினைகளைக் குறிப்பிட்டு அவற்றுள் ஒன்றை விளக்குக.



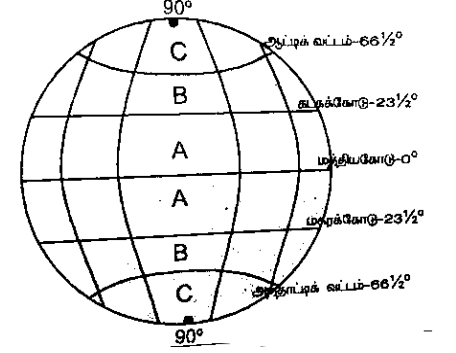
❖ மண்ணின் பக்கப்பார்வை வரிப்படத்தில் காட்டப்பட்டுள்ளது.

- i) A, B உப படைகளைப் பெயரிடுக?
- ii) மண்ணுருவாக்கக் காரணிகள் மூன்றினைக் குறிப்பிடுக?
- iii) மண் தரமிழப்பதற்கான இரண்டு காரணிகளை விளக்குக?



❖ உலகின் பிரதான காலநிலை வலயங்கள் வரிப்படத்தில் தரப்பட்டுள்ளது

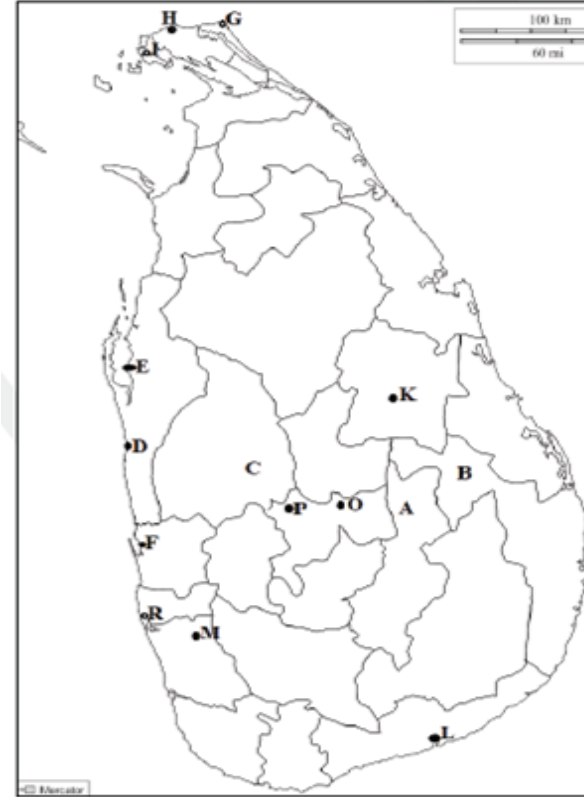
- i) படத்தில் B,C எழுத்துக்களால் குறித்துக் காட்டப்பட்டுள்ள காலநிலை வலயங்களைப் பெயரிடுக?
- ii) 2. யு எழுத்தினால் குறித்துக் காட்டப்பட்டுள்ள காலநிலையின் இரு பிரதான பண்புகளைக் குறிப்பிடுக?
- iii) 3.காலநிலை எவ்வாறு மனித நடவடிக்கைகளில் செல்வாக்குச் செலுத்துகின்றது என்பதை 3 உதாரணங்களுடன் விளக்குக?



இலங்கைப்படம் குறித்தல் பயிற்சிகள்

❖ 1 தொடக்கம் 5 வரையுள்ள ஒவ்வொரு வினாவுக்கும் முன்னால் மூன்று ஆங்கில எழுத்துக்கள் தரப்பட்டுள்ளன. இலங்கைப் படத்திலிருந்து ஒவ்வொரு வினாவுக்கும் உரிய சரியான விடையைத் தெரிவு செய்து அதனை இலங்கைப் படத்தின் அருகிலுள்ள நிரலில் ஒவ்வொரு வினா இலக்கத்திற்கும் எதிரே உள்ள கூட்டினுள் எழுதுக.

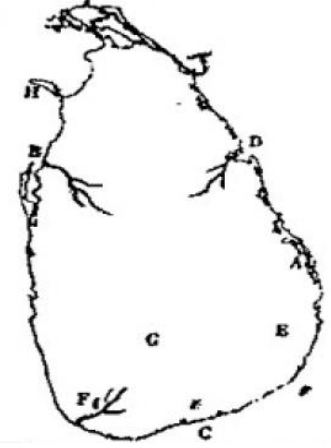
- | | |
|---|-------|
| (1) காங்கேசன்துறை | G,H,J |
| (2) நிலச்சரிவு ஏற்படும் மாவட்டம் | A,B,C |
| (3) இறால் வளர்க்கப்படுகின்ற சிலாபம் | D,E,F |
| (4) பித்தளை உற்பத்தி நடைபெறும் பிலிமத்தலாவை | O,P,R |
| (5) ஹிங்குராங்கொட நெல் ஆராய்ச்சி நிலையம் | K,L,M |



- i.
- ii.
- iii.
- iv.
- v.
- 5

❖ உமக்கு தரப்பட்ட இலங்கைப்படத்தினை பரிசீலித்த கீழே தரப்பட்ட வினாக்களிற்கு விடையளிக்குக.

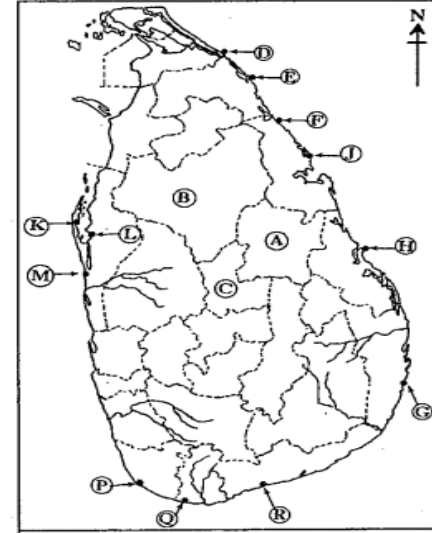
- i) A,D,H எழுத்துக்களால் காட்டப்படும் இடங்களில் திருகோணமலையைக் குறிக்கும் எழுத்து யாது?
- ii) G,C,E என்ற எழுத்துக்களில் சிலிக்கா மணல் காணப்படும் அம்பாறையை குறிக்கும் எழுத்து யாது?
- iii) F,D,B எழுத்துக்களால் காட்டப்படும் இடங்களில் துத்தளப் பகுதியைச் சென்றடையும் மீ ஓயா நதி குறிக்கும் எழுத்து யாது?
- iv) C,E,G ஆகிய எழுத்துக்களில் முற்புதர்களும் பற்றைக் காடுகளும் காணப்படும் இடத்தினைக் குறிக்கும் எழுத்து யாது?
- v) T,H,J எழுத்துக்களால் காட்டப்படும் இடங்களில் கிளிநொச்சியை குறிக்கும் எழுத்து யாது?



• **கடந்தகால வினா – 2016 (இலங்கைப்படம்)**

உமக்கு தரப்பட்டுள்ள இலங்கைப் புறவுருவப் படத்தினைக் கவனமாகப் படித்து, கீழே தரப்பட்டுள்ள வினாக்களுக்கு விடை தருக. விடை எழுதுவதற்காக இலங்கைப் புறவுருவப் படத்தின் அருகே தரப்பட்டுள்ள நிரலினை பயன்படுத்துக.

- (i) A, B மற்றும் C என்ற எழுத்துக்களில், அண்மையில் அதிகளவில் வரட்சியினால் பாதிக்கப்பட்ட 'பொலனறுவை' மாவட்டத்தினைக் காட்டும் எழுத்து எது?
- (ii) D, E மற்றும் F என்ற எழுத்துக்களில், இல்மனைற்று படிவு அமைந்துள்ள 'புல்மோட்டையைக்' காட்டும் எழுத்து எது?
- (iii) G, H மற்றும் J என்ற எழுத்துக்களில், சுற்றுலாப் பயணிகளிடையே மிகவும் பிரபல்யமான 'நிலாவெளி' கடற்கரையைக் காட்டும் எழுத்து எது?
- (iv) K, L மற்றும் M என்ற எழுத்துக்களில், 'நுரைச்சோலை அனல் மின் நிலையத்தின்' அமைவிடத்தினைக் காட்டும் எழுத்து எது?
- (v) P, Q மற்றும் R என்ற எழுத்துக்களில், 'வெலிகம மீன்பிடித் துறைமுகத்தின்' அமைவிடத்தினைக் காட்டும் எழுத்து எது?

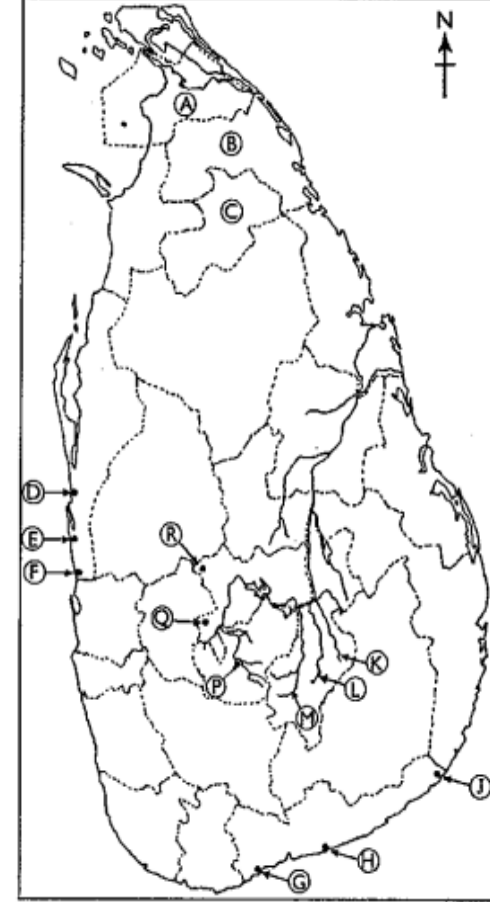


(i)	<input type="text"/>
(ii)	<input type="text"/>
(iii)	<input type="text"/>
(iv)	<input type="text"/>
(v)	<input type="text"/>
	<input type="text" value="5"/>

• கடந்தகால வினா – 2017 (இலங்கைப்படம்)

உமக்கு தரப்பட்டுள்ள இலங்கைப் புறவுருவப் படத்தினைக் கவனமாகப் அவதானித்து, கீழே தரப்பட்டுள்ள வினாக்களுக்கு விடை தருக. விடை எழுதுவதற்காக இலங்கைப் புறவுருவப் படத்தின் அருகே தரப்பட்டுள்ள நிரலினை பயன்படுத்துக.

- (i) **A, B** மற்றும் **C** எழுத்துக்களால் காட்டப்படும் மூன்று மாவட்டங்களில், மிகக் குறைவான சனத்தொகை அடர்த்தியைக் கொண்ட முல்லைத்தீவு மாவட்டத்தினைக் குறித்துக் காட்டும் எழுத்து என்ன?
- (ii) **D, E** மற்றும் **F** ஆகிய மூன்று எழுத்துக்களில், சிலிக்கா மணல் படிவு பரம்பிக் காணப்படும் மாதம்பேயன் அமைவிடத்தினைக் குறித்துக் காட்டும் எழுத்து என்ன?
- (iii) **G, H** மற்றும் **J** என்னும் மூன்று எழுத்துக்களில், புந்தல கடனீரேரியின் அமைவிடத்தினைக் குறித்துக் காட்டும் எழுத்து என்ன?
- (iv) **K, L** மற்றும் **M** என்னும் மூன்று எழுத்துக்களில், மகாவலியின் மூன்று கிளையாறுகளைக் காட்டும் எழுத்துக்களில் உமா ஓயாவை குறித்துக் காட்டும் எழுத்து எது?
- (v) **P, Q** மற்றும் **R** என்னும் எழுத்துக்களினால் குறித்துக்காட்டப்பட்டுள்ள மூன்று அமைவிடங்களுள், தலவாக்கலை தேயிலை ஆராய்ச்சி நிறுவகத்தின் அமைவிடத்தினைக் குறித்துக் காட்டும் எழுத்து எது?



(i)

(ii)

(iii)

(iv)

(v)

• **கடந்தகால வினா – 2018 (இலங்கைப்படம்)**

(i) தொடக்கம் (v) வரையுள்ள ஒவ்வொரு வினாவுக்கும் முன்னால் மூன்று ஆங்கில எழுத்துக்கள் தரப்பட்டுள்ளன. படத்திலிருந்து ஒவ்வொரு வினாவுக்குமான சரியான விடையைக் குறித்துக் காட்டும் எழுத்தினைத் தெரிவு செய்து அதனை அருகிலுள்ள நிரலில் ஒவ்வொரு வினா இலக்கத்திற்கும் எதிரேயுள்ள பெட்டியில் எழுதுக.

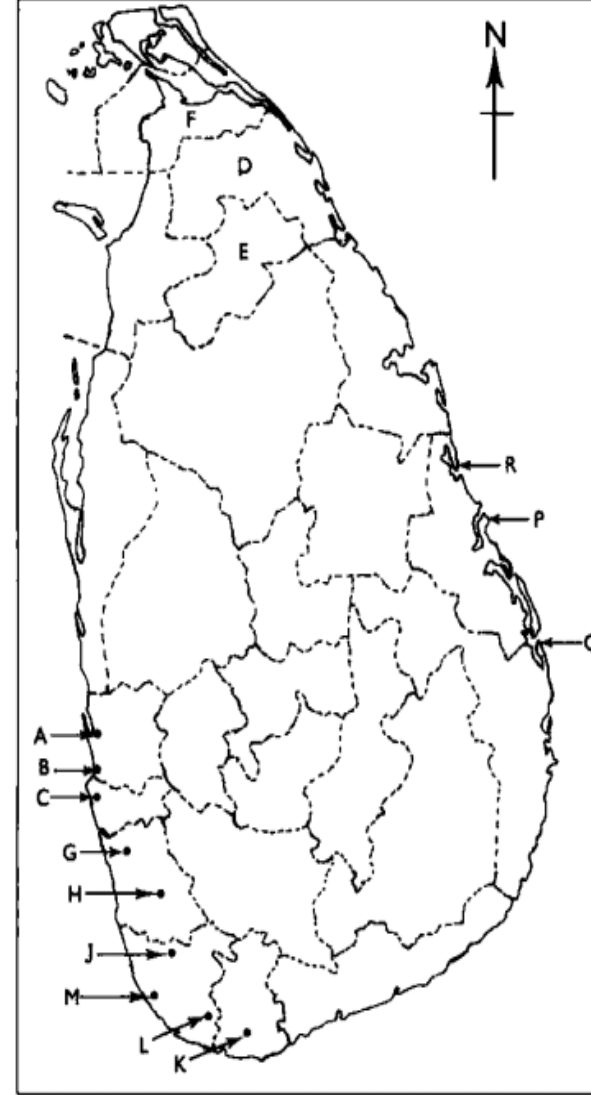
(i) வெப்ப மின்சக்தி நிலையம் அமைந்துள்ள கெரவலப்பிட்டிய – A, B, C

(ii) வவுனியா மாவட்டம் - D, E, F

(iii) இறப்பர் ஆராய்ச்சி நிறுவகம் அமைந்துள்ள அகலவத்தை – G, H, J

(iv) வெண்களி அமைந்துள்ள மீட்டியாகொட – K, L, M

(v) சுற்றுலாக் கவர்ச்சியைக் கொண்டிருக்கும் பாசிக்குடா கடற்கரை – P, Q, R



(i)

(ii)

(iii)

(iv)

(v)

5

• **கடந்தகால வினா – 2019 (இலங்கைப்படம்)**

(i) தொடக்கம் (v) வரையுள்ள ஒவ்வொரு வினாவுக்கும் முன்னால் மூன்று ஆங்கில எழுத்துக்கள் தரப்பட்டுள்ளன. படத்திலிருந்து ஒவ்வொரு வினாவுக்குமான சரியான விடையைக் குறித்துக் காட்டும் எழுத்தினைத் தெரிவு செய்து அதனை அருகிலுள்ள நிரலில் ஒவ்வொரு வினா இலக்கத்திற்கும் எதிரேயுள்ள பெட்டியில் எழுதுக.

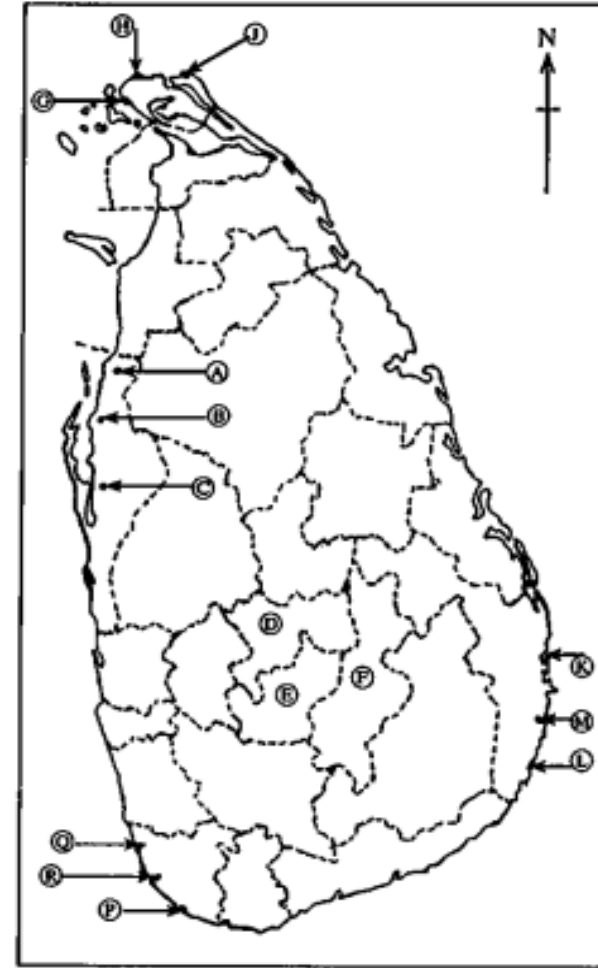
(i) கழிவுகள் நிரப்பப்படும் அறுவாக்காலு – A, B, C

(ii) பதுளை மாவட்டம் - D, E, F

(iii) காங்கேசன்துறை மீன்பிடித் துறைமுகம் - G, H, J

(iv) அலைச்சறுக்கு விளையாட்டுக்குப் புகழ்பெற்ற இடமான அறுகம் குடா - K, L, M

(v) சுற்றுலாக் கவர்ச்சியைக் கொண்ட மாது கங்கை - P, Q, R



(i)

(ii)

(iii)

(iv)

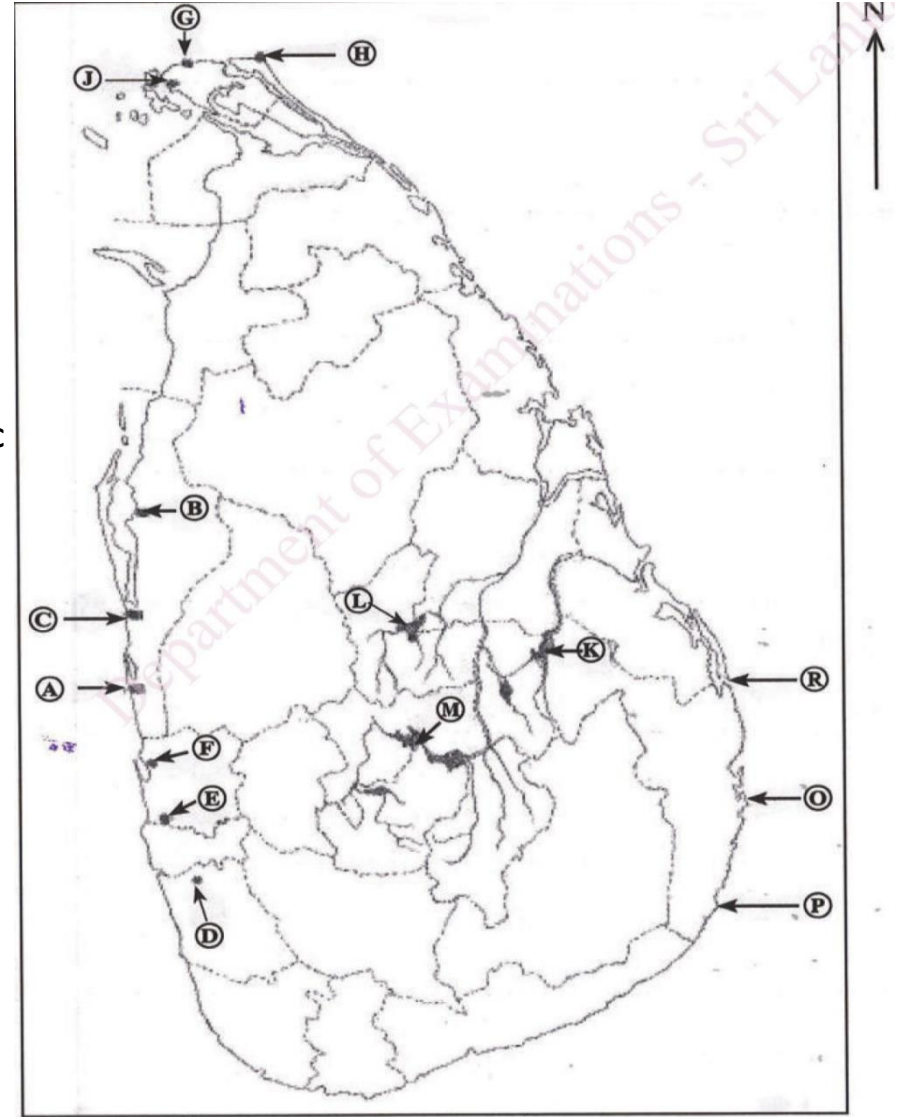
(v)

5

• **கடந்தகால வினா – 2020 (இலங்கைப்படம்)**

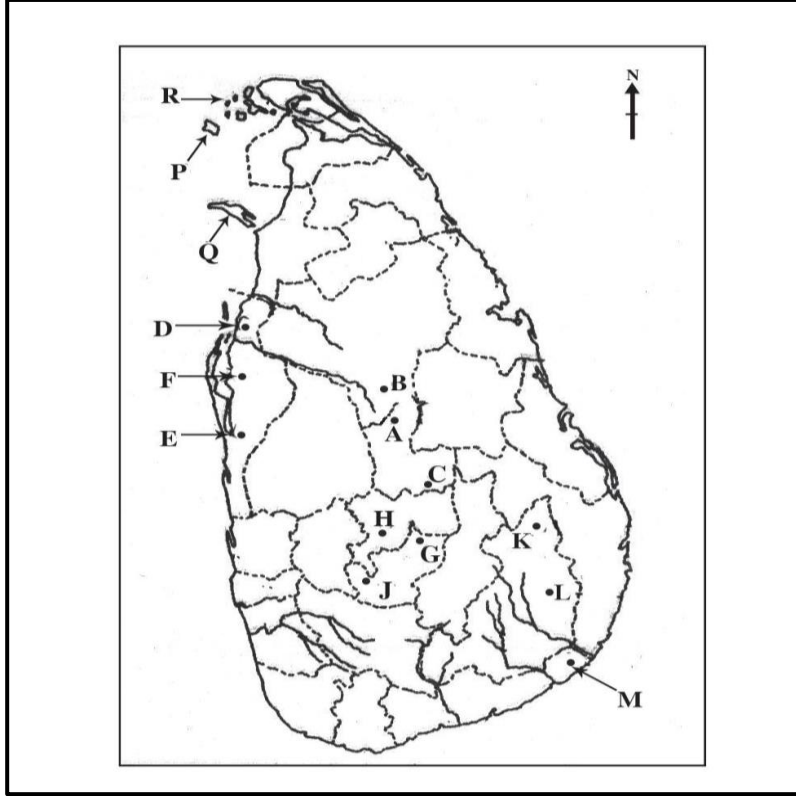
(i) தொடக்கம் (v) வரையுள்ள ஒவ்வொரு வினாவுக்கும் முன்னால் மூன்று ஆங்கில எழுத்துக்கள் தரப்பட்டுள்ளன. படத்திலிருந்து ஒவ்வொரு வினாவுக்குமான சரியான விடையைக் குறித்துக் காட்டும் எழுத்தினைத் தெரிவு செய்து அதனை அருகிலுள்ள நிரலில் ஒவ்வொரு வினா இலக்கத்திற்கும் எதிரேயுள்ள பெட்டியில் எழுதுக.

- (i) அண்மையில் அபிவிருத்தி செய்யப்பட்ட பலாலி விமான நிலையம் – G, H, J
- (ii) சூழலியல்வாதிகளின் கவனத்திற்குட்பட்டுள்ள ஆணைவிழுந்தான் சரணாலயம் - A, B, C
- (iii) பியகம ஏற்றுமதி செயன்முறை வலயம் – D, E, F
- (iv) சங்கமன்கந்தை முனை – O, P, R
- (v) அண்மையில் நிர்மாணிக்கப்பட்ட மொறககாகந்த நீர்த்தேக்கம் – K, L, M



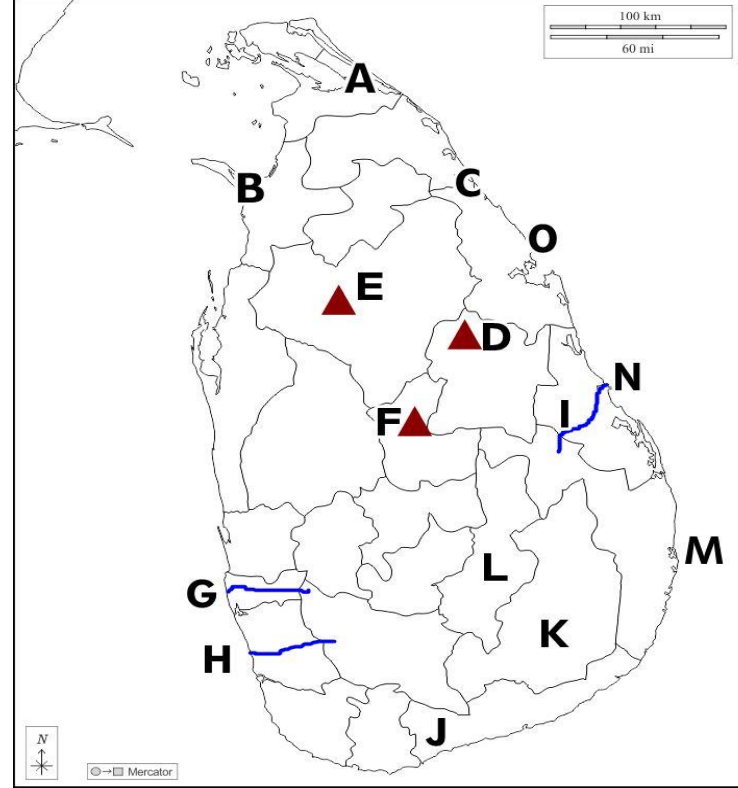
❖ உமக்கு வழங்கப்பட்டுள்ள இலங்கைப் புறவுருவப் படத்தினை அவதானித்து கீழ்வரும் வினாக்களுக்கு விடையளிக்க.

- i) படத்தில் குறிப்பிட்டுள்ள A, B மற்றும் C எழுத்துக்களில் தம்புள்ளை புராதன சுற்றுலா நகரத்தைக் காட்டும் எழுத்து எது?
- ii) படத்தில் D, E, F ஆல் காட்டப்பட்டுள்ள எழுத்துக்களில் ஆனவிழுந்தாவ இயற்கை ஒதுக்கினைக் காட்டும் எழுத்து எது?
- iii) படத்தில் G, H, J ஆல் கபாட்டப்பட்டுள்ள எழுத்துக்களில் நன்னீர் மீன்வளர்ப்பு இடம்பெறும் கினிகத்தேன எனும் இடத்தைக் காட்டும் எழுத்து எது?
- iv) படத்தில் K, L, M எழுத்துக்களில் இரத்தினத்திக்கல் காணப்படும் ஒக்கம்பிட்டிய பிரதேசத்தினைக் காட்டும் எழுத்து எது?
- v) படத்தில் N, O, P எழுத்துக்களில் காட்டப்படும் நெடுந்தீவைக் குறிக்கும் எழுத்து எது?



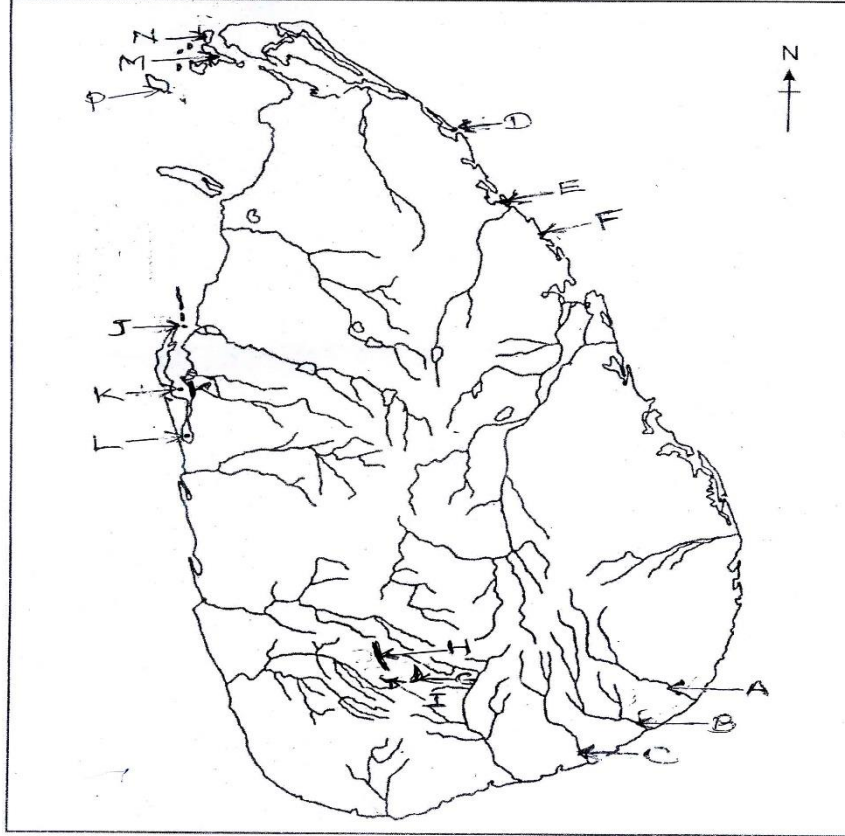
• வழங்கப்பட்டுள்ள இலங்கைப்படத்தினை அவதானித்து கீழே தரப்பட்டுள்ள அம்சங்களுக்குரிய சரியான எழுத்தினைத் தெரிவுசெய்க

- | | |
|-----------------------|---------|
| i) ஆனையிறவு | A, B, C |
| ii) சிகீரியாக் குன்று | D, E, F |
| iii) முந்தனி ஆறு | G, H, I |
| iv) மொனறாகலை மாவட்டம் | J, K, L |
| v) பாசிக்குடா கடற்கரை | M, N, O |



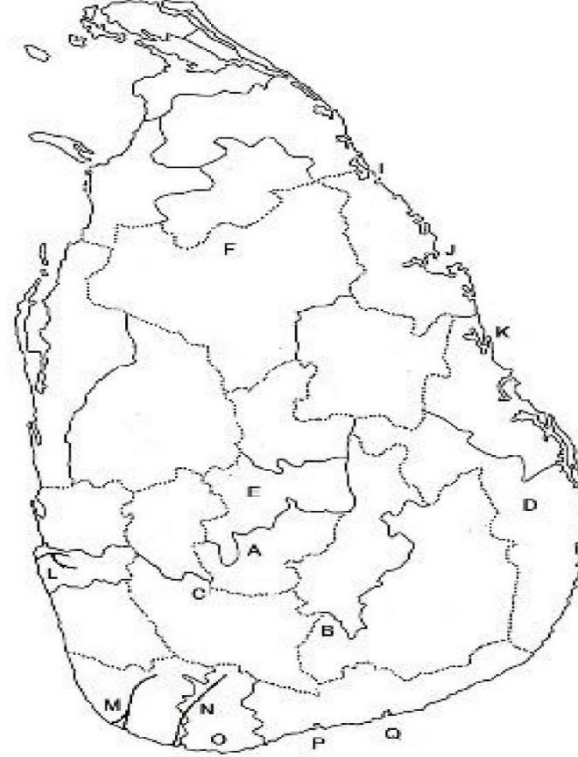
• தரப்பட்டுள்ள இலங்கை படத்தினை அடிப்படையாகக் கொண்டு பின்வரும் வினாக்களுக்கு விடை எழுதுக?

- (i) A, B, C எழுத்துக்களில் குபுக்கள் ஓயாவை காட்டும் எழுத்து எது?
- (ii) D, E, F எழுத்துக்களில் கனிய மணல் வளத்தை கொண்ட புல்மோட்டையை காட்டும் எழுத்து எது?
- (iii) G, H, I எழுத்துக்களில் சப்ரகமுவ மலைத்தொடரை குறிக்கும் எழுத்து எது?
- (iv) J, K, L எழுத்துக்களில் புத்தளம் கடனீரேரியை காட்டும் எழுத்தும் எது?
- (v) M, N, P எழுத்துக்களில் நெடுந்தீவை குறிக்கும் எழுத்து எது?



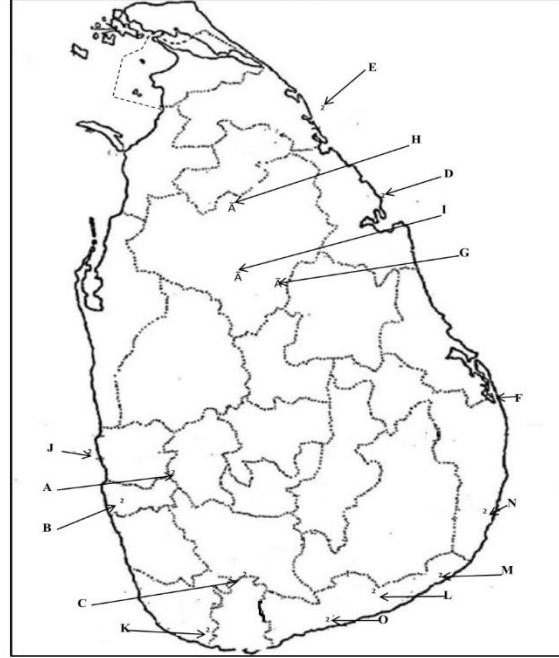
• தரப்பட்டுள்ள இலங்கைப் படத்தைப் பயன்படுத்தி வினாக்களுக்கு விடை தருக.

- i) A,B,C ஆகிய எழுத்துக்களில் விமலசரேந்திர மின் உற்பத்தி நிலையத்தைக் காட்டும் எழுத்து எது?
- ii) D,E,F ஆகிய எழுத்துக்களில் செங்கபில செம்பூரான் மண் பரவிக் காணப்படும் பிரதேசத்தைக் குறிக்குக் காட்டும் எழுத்து எது?
- iii) I,J,K ஆகிய எழுத்துக்களில் இலங்கையின் கிழக்கு கரையோரப் பகுதிகளில் கனிய மணல் பிதவுகள் குறித்துக் காட்டும் எழுத்து எது?
- iv) L,M,C ஆகிய எழுத்துக்களில் களுகங்கையைக் காட்டும் எழுத்து எது?
- v) O,P,Q ஆகிய எழுத்துக்களில் கிரிந்த மீன்பிடித் துறைமுகத்தைக் காட்டும் எழுத்து எது?



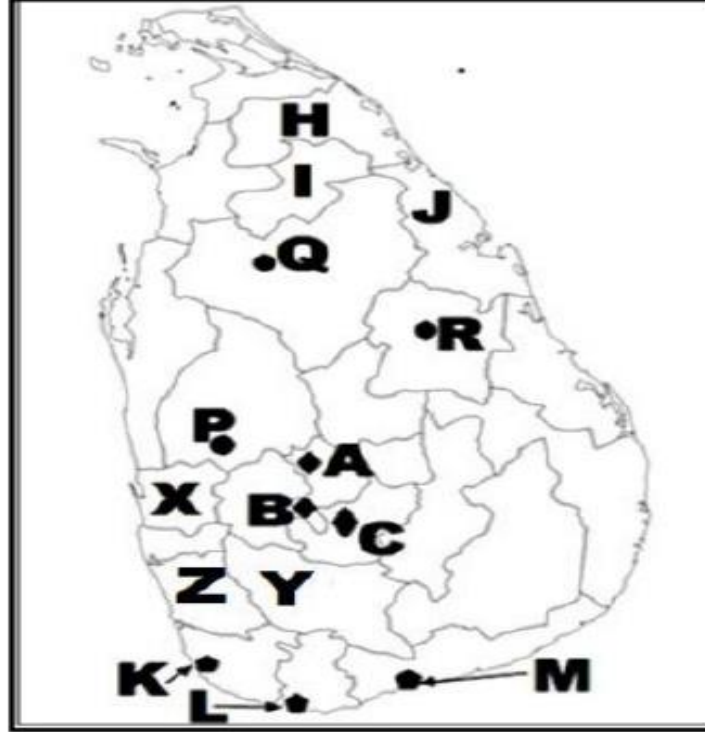
• உமக்குத் தரப்பட்டுள்ள இலங்கைப் புறவுருவப்படத்தில் குறிக்கப்பட்டுள்ளவற்றைக் கொண்டு பின்வரும் வினாக்களுக்கு விடை தருக.

- (I) A, B, C என்ற எழுத்துக்களில் நன்னீர் மீனிபிடிப் பிரதேசம் ஒன்றான பனாபிட்டியாவைக் குறித்து நிற்கும் எழுத்து எது?
- (II) D, E, F என்ற எழுத்துக்களில் பெரியளவிலான இரும்புப் படிவகள் காணப்படும் சேருவில் எனுமிடத்தைக் குறித்து நிற்கும் எழுத்து எது?
- (III) G, H, I என்ற எழுத்துக்களில் ரிதிகலை தனிக்குன்றைக் குறித்து நிற்கும் எழுத்து எது?
- (IV) J, K, L என்ற எழுத்துக்களில் அண்மையில் சர்ச்சைக்குள்ளான மாஹம்புர துறைமுகத்தைக் குறித்து நிற்கும் எழுத்து எது?
- (V) M, N, O என்ற எழுத்துக்களில் சின்ன ராவணன் தீவைக் குறித்து நிற்கும் எழுத்து எது?



❖ உமக்கு தரப்பட்ட இலங்கைப்படத்தினை பரிசீலித்த கீழே தரப்பட்ட வினாக்களிற்கு விடையளிக்குக.

- i) A,B,C எழுத்துக்களால் காட்டப்படும் இடங்களில் தலவாக்கலை தேயிலை ஆராய்ச்சி நிலையத்தினை குறிக்கும் எழுத்து யாது?
- ii) P,Q,R நெல் ஆராய்ச்சி நிலையங்களுள் ஹிங்குராங்கொட நெல் ஆராய்ச்சி நிலையத்தைக் குறிக்கும் எழுத்து யாது?
- iii) K,L,M எழுத்துக்களால் காட்டப்படும் மீன்பிடிதுறைமுகங்களில் வெலிகம மீன்பிடித்துறைமுகத்தை குறிக்கும் எழுத்து யாது?
- iv) H,I,J எழுத்துக்களால் காட்டப்படும் இடங்களில் இறப்பர் பயிர்ச்செய்கை மேற்கொள்ள நடவடிக்கை எடுக்கப்பட்டுள்ள முல்லைத்தீவு மாவட்டத்தைக் குறிக்கும் எழுத்து யாது?
- v) X,Y,Z எழுத்துக்களால் காட்டப்படும் இடங்களில் கறுவா பயிரிடப்படும் இரத்தினபுரி மாவட்டத்தைக் குறிக்கும் எழுத்து யாது?



❖ உமக்கு வழங்கப்பட்டுள்ள இலங்கைப் புறவரிப்படத்தினை அடிப்படையாகக் கொண்டு கீழ்வரும் வினாக்களுக்கு விடை எழுதுக.

1. A, B, C ஆகிய எழுத்துக்களில் கொட்டியாரக் குடாவினை குறிக்கும் எழுத்து எது?

.....

2. D, E, F ஆகிய எழுத்துக்களில் பதுளை மாவட்டத்தை குறிக்கும் எழுத்து எது?

.....

3. G, H, I ஆகிய எழுத்துக்களில் புல்மோட்டையைக் குறிக்கும் எழுத்து எது?

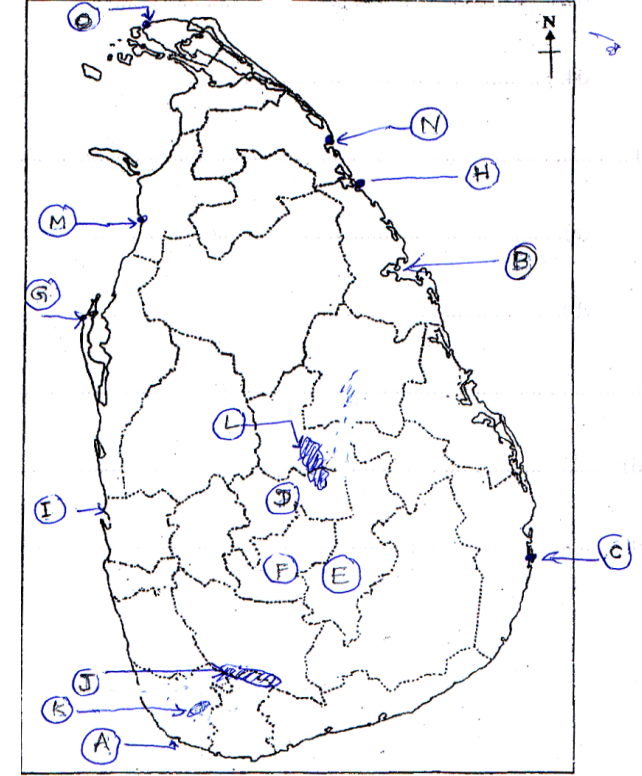
.....

4. J, K, L ஆகிய எழுத்துக்களில் கன்னெலியவைக் குறிக்கும் எழுத்து?

.....

5. M, N, O ஆகிய எழுத்துக்களில் மயிலிட்டி துறைமுகத்தை குறிக்கும் எழுத்து எது?

.....



❖ உமக்கு வழங்கப்பட்டுள்ள இலங்கைப் புறவரிப்படத்தினை அடிப்படையாகக் கொண்டு கீழ்வரும் வினாக்களுக்கு விடை எழுதுக.

1. A, B, C ஆகிய ஆங்கில எழுத்துக்களில் களுத்துறையை குறிப்பிடும் எழுத்து எது?

.....

2. D, E, F ஆகிய ஆங்கில எழுத்துக்களில் கதிர்காமக் குன்றைக் குறிப்பிடும் எழுத்து எது?

.....

3. G, H, J ஆகிய ஆங்கில எழுத்துக்களில் உப்பு வெளியைக் குறிப்பிடும் எழுத்து எது?

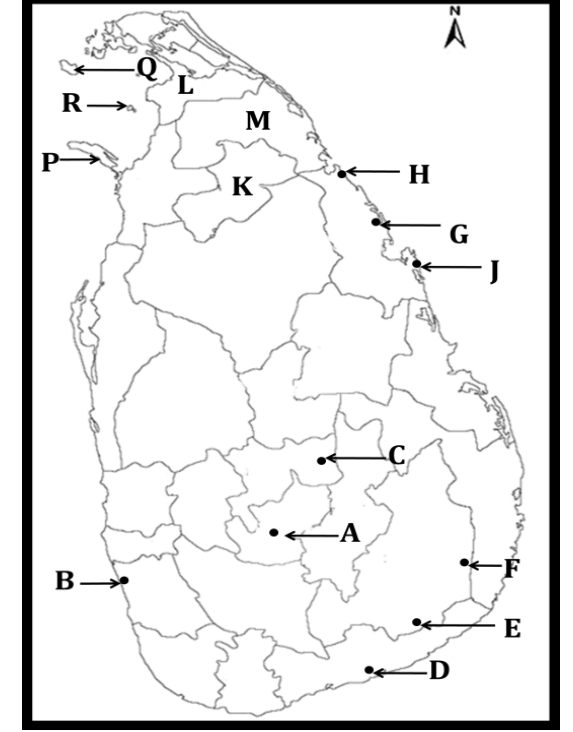
.....

4. K, L, M ஆகிய ஆங்கில எழுத்துக்களில் கிளிநொச்சி மாவட்டத்தைக் குறிப்பிடும் எழுத்து எது?

.....

5. P, Q, R ஆகிய ஆங்கில எழுத்துக்களில் மன்னார் தீவினை குறிப்பிடும் எழுத்து எது?

.....



❖ உமக்குத் தரப்பட்டுள்ள இலங்கைப் படத்தினை கவனமாக பரிசீலித்து கீழே தரப்பட்டுள்ள வினாக்களுக்கு விடை தருக.

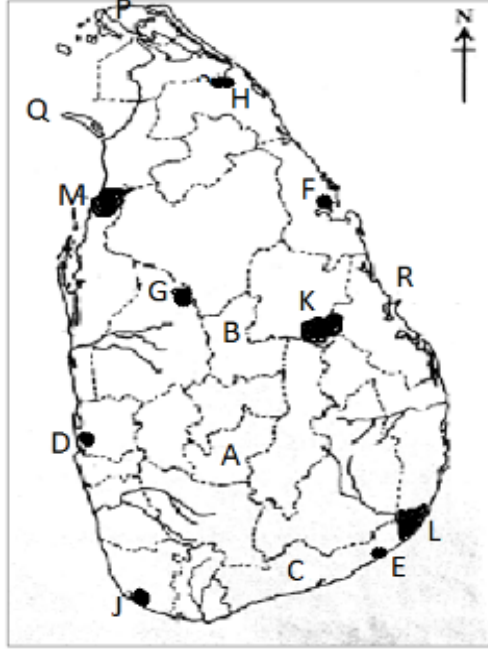
I. A, B மற்றும் C ஆகிய மூன்று எழுத்துக்களினால் குறித்துக் காட்டப்பட்டுள்ள மூன்று மாவட்டங்களுள் சிறு ஏற்றுமதிப் பயிர்களின் ஆராய்ச்சி நிலையம் அமைந்துள்ள “மாத்தளை” மாவட்டத்தினைக் குறிக்கும் எழுத்து யாது? (1 புள்ளி)

II. D, E மற்றும் F ஆகிய மூன்று எழுத்துக்களினால் குறித்துக் காட்டப்பட்டுள்ள இடங்களுள் இல்மனைட் படிவுகள் காணப்படும் “நிலாவெளி” இணைக் குறிக்கும் எழுத்து யாது? (1 புள்ளி)

III. G, H மற்றும் J ஆகிய மூன்று எழுத்துக்களினால் குறித்துக் காட்டப்பட்டுள்ள இடங்களுள் முருகைக்கற்பார் படிவு காணப்படும் “ஹிக்கடுவை” இணைக் குறிக்கும் எழுத்து யாது? (1 புள்ளி)

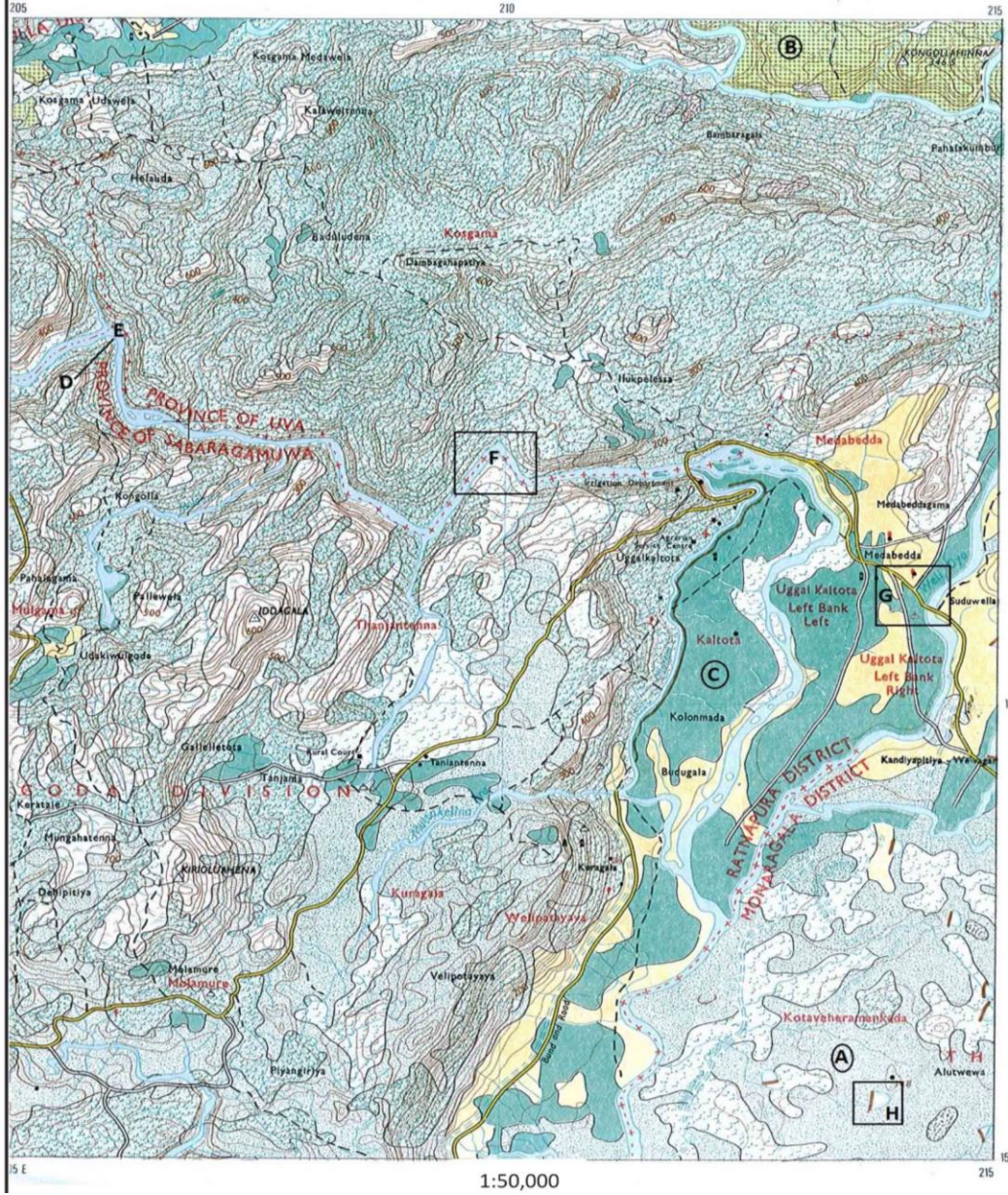
IV. K, L மற்றும் M ஆகிய மூன்று எழுத்துக்களில் “வில்பத்து” எனும் இயற்கை ஓதுக்குப் பகுதியினை குறிக்கும் எழுத்து யாது?
(1 புள்ளி)

V. P, Q மற்றும் R ஆகிய மூன்று எழுத்துக்களில் “பேதுறு” கண்ட மேடையினைக் குறிக்கும் எழுத்து யாது?
(1 புள்ளி)



I	
II	
III	
IV	
V	

- I. இலக்கம் 5 இனால் குறித்துக் காட்டப்படுவது என்ன?
(நீர்ப்பாசன கால்வாய் / அணைக்கட்டு / குளம்) (1 புள்ளி)
- II. இலக்கம் 6 இனால் காட்டப்படுவது என்ன?
(பள்ளிவாசல் / திரிகோணகணித நிலையம் / உப தபாலகம்) (1 புள்ளி)
- III. இலக்கம் 7 இனால் காட்டப்படுவது என்ன?
(நீர்த்தேக்கம் / இடவுயரம் / குடியிருப்பு) (1 புள்ளி)
- IV. இலக்கம் 9 இனால் குறித்துக் காட்டப்படுவது என்ன?
(அமைக்கப்பட்ட கட்டிடம் / பேருந்து தரிப்பு / புகையிரத நிலையம்) (1 புள்ளி)
- V. இப்பகுதியில் பரந்தளவில் பரம்பிக் காணப்படும் இயற்கைத் தாவர வகை எது?
(1 புள்ளி)
- VI. A – B வரை காட்டப்படும் தரைத்தோற்ற அம்சம் எது?
(1 புள்ளி)
- VII. C – D என காட்டப்படும் நிலத்தோற்ற அம்சத்தைப் பெயரிடுக?
(1 புள்ளி)
- VIII. E தொடக்கம் F வரையான அண்ணளவான தூரம் எத்தனை KM?
(1 புள்ளி)
- IX. படப்பிரதேசத்தின் பிரதான பொருளாதார நடவடிக்கை எது?
(1 புள்ளி)
- X. இப்படப்பிரதேசமானது எக்காலநிலை வலயத்தைப் பரதிபலித்து நிற்கின்றது?
(1 புள்ளி)



i தொடக்கம் v வரையுள்ள வினாக்கள்

ஒவ்வொன்றுக்குமான விடையை அடைப்புக் குறிக்குள் தரப்பட்டுள்ளவற்றிலிருந்து தெரிவு செய்க.

- i) A எழுத்தினால் குறித்துக் காட்டப்படும் அம்சம் எது?.....
(பற்றைக்காடு, சேனை, புல்வெளி)
- ii) C எழுத்தினால் குறித்துக் காட்டப்படும் விவசாய நிலப்பயன்பாட்டு அம்சம் எது?.....
(தேயிலை, வீட்டுத்தோட்டம், நெல்)
- ii) D கோட்டினால் குறித்துக் காட்டப்படும் பௌதிக அம்சம் எது?.....
(பள்ளத்தாக்கு, சுவடு, மென்சாய்வு)
- v) H என்ற நாற்பக்களில் அமைந்துள்ள நிர்வாக எல்லை எது?.....
(மாகாணம், மாவட்டம், மாநகரசபை)
- v) F என்ற நாற்பக்களில் அமைந்துள்ள பண்பாட்டு அம்சம் எது?.....
(குளம், பாழடைந்தகுளம், அணைக்கட்டு)

❖ **vi தொடக்கம் vii வரையுள்ள வினாக்களுக்கு சரியான விடையை எழுதுக.**

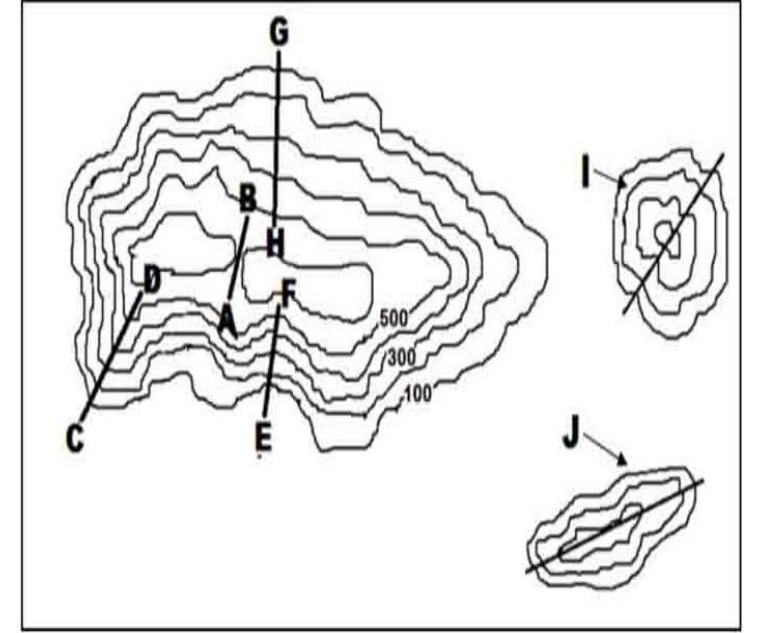
- i) B எழுத்தினால் குறித்துக் காட்டப்படும் நிலப்பயன்பாடு எது?.....
- ii) நாற்பக்கல் G இல் உள்ள சமய வழிபாட்டுத் தலம் எது?.....

❖ படப்பகுதி பற்றிய மூன்று கூற்றுக்கள் கீழே தரப்பட்டுள்ளன. எந்த ஒவ்வொரு கூற்றினையும் வாசித்து அவை சரியாயின் “சரி” எனவும் பிழையாயின் “பிழை” எனவும் தரப்பட்டுள்ள வினா இலக்கத்துக்கு எதிரே எழுதுக.

- vii) இப் படப் பிரதேசத்தில் இரண்டு மாகாணப் பகுதிகள் உள்ளடக்கப்பட்டுள்ளது ()
- x) நாற்பக்கல் G இல் பிரதானவீதி காணப்படுகின்றது ()
- x) இப்படப்பிரதேசத்தின் வட பகுதியின் பெரும் பகுதி காட்டுப்பிரதேசமாகும் ()

❖ தரப்பட்ட இடவிளக்கப் படத்தினை அவதானித்து பின்வரும் வினாக்களுக்கு பொருத்தமான விடையை தெரிவு செய்து எழுதுக.

- i) A-Bகுறிக்கும் பௌதிக அம்சம் எது?
- (பள்ளத்தாக்கு, சுவடு, கணவாய்)
- ii) C-Dகுறிக்கும் பௌதிக அம்சம் எது?.....
- (மென்சாய்வு, சுவடு, பள்ளத்தாக்கு)
- iii) E-Fகுறித்துக் காட்டும் அம்சம் எது?.....
- (பள்ளத்தாக்கு, சுவடு, குழிவுச்சாய்வு)
- iv) G-H குறித்துக் காட்டும் அம்சம் எது?.....
- (குத்துச்சாய்வு, குவிவுச்சாய்வு, மென்சாய்வு)
- v) I குறிக்கும் பௌதிக அம்சம் எது?
- (நீள்குன்று, கூம்புக்குன்று, பாறைத்தொடர்)



(அ) 1 : 50 000 அளவுத்திட்டத்தில் அமைந்த இடவிளக்கப் படத்தின் ஒரு பகுதி உமக்குத் தரப்பட்டுள்ளது. இப்படத்தினை பரிசீலித்து அதன் அடிப்படையில் பின்வரும் வினாக்களுக்கு விடை எழுதுக. விடைகளை எழுதுவதற்கு உமக்கு வழங்கப்பட்டுள்ள தாளினைப் பயன்படுத்துக.

- XI. இலக்கம் ① இனால் குறித்துக் காட்டப்படுவது என்ன?
(பாறைத்தொடர் / கடனீரேரி / மணல் திட்டு) (1 புள்ளி)
- XII. இலக்கம் ③ இனால் காட்டப்படுவது என்ன?
(குடா / களப்பு / முனை நிலம்) (1 புள்ளி)
- XIII. இலக்கம் ⑤ இனால் காட்டப்படுவது என்ன?
(பொங்குமுகம் / மியாந்தர் / கழிமுகம்) (1 புள்ளி)
- XIV. இலக்கம் ⑧ இனால் குறித்துக் காட்டப்படுவது என்ன?
(புதர்காடு / சேற்றுநிலம் / பற்றைக்காடு) (1 புள்ளி)
- XV. இப்படப் பிரதேசமானது எவ்வகையான தரைத்தோற்றத்தை பிரதிபலிக்கின்றது? (1 புள்ளி)
- XVI. இப்படத்தில் அதிகமாகப் பரம்பியுள்ள பிரதான பெருந்தோட்டப்பயிர் எது? (1 புள்ளி)
- XVII. இத்தேசப்படத்தின் விவசாயப் பொருளாதாரத்தினை மையமாகக் கொண்டு
மேற்கொள்ளத்தக்க கைத்தொழில் நடவடிக்கைகள் 2 தருக? (2 புள்ளி)
- XVIII. வெலிகம நகரத்தில் காணப்படும் பொது நிறுவனங்கள் 2 தருக?
(2 புள்ளி)



(அ) 1 : 50 000 அளவுத்திட்டத்தில் அமைந்த இடவிளக்கப் படத்தின் ஒரு பகுதி உமக்குத் தரப்பட்டுள்ளது. இப்படத்தினை பரிசீலித்து அதன் அடிப்படையில் பின்வரும் வினாக்களுக்கு விடை எழுதுக. விடைகளை எழுதுவதற்கு உமக்கு வழங்கப்பட்டுள்ள தாளினைப் பயன்படுத்துக.

(i) இலக்கம் 1 இனால் குறித்துக் காட்டப்படுவது என்ன?

(மதகு / பாலம் / கிளை நதி)

(1 புள்ளி)

(ii) இலக்கம் 2 இனால் காட்டப்படுவது என்ன?

(பிரதான நதி / கடனீரேரி / சேற்று நிலம்)

(1 புள்ளி)

(iii) இலக்கம் 6 இனால் காட்டப்படுவது என்ன?

(மியாந்தர் / பின்னியாறு / கழிமுகம்)

(1 புள்ளி)

(iv) இப்படத்திலுள்ள வீதி வலைப்பின்னல்கள் 2 தருக?

(2 புள்ளி)

(v) இப்பிரதேசமானது எப்பயிர்ச் செய்கைக்கு அதிக முக்கியத்துவம் வழங்குகிறது?

(1 புள்ளி)

(vi) இப்படத்தில் பரம்பியுள்ள நீர் வடிகால் அம்சம் ஒன்று தருக?

(1 புள்ளி)

(vii) படத்தில் பரம்பிக் காணப்படும் இயற்கைத்தாவர வகை எது?

(1 புள்ளி)

(viii) தென்னரைப்பகுதியில் வீதியின் வடிவத்தில் செல்வாக்குச் செலுத்தும் காரணிகள் 2 தருக?

(2 புள்ளி)



❖ பின்வரும் இலக்கங்களால் குறித்துக் காட்டப்படும் நதிகளைப் பெயரிடுக?



❖ பின்வரும் இலக்கங்களால் குறித்துக் காட்டப்படும் கடல்களைப் பெயரிடுக? பின்வரும் இலக்கங்களால் குறித்துக் காட்டப்படும் தீவுகளைப் பெயரிடுக?

