



வடமேல் மாகாணக் கல்வித் திணைக்களம்

இரண்டாம் தவணைப் பரீட்சை - 2019

புவியியல் - ஜூனில் வினா

தரம் : 6

நேரம்: 2 மணித்தியாலம்

பெயர் /சுட்டெண்:

பகுதி I

- ◆ எல்லா வினாக்களுக்கும் விடை தருக.
- ◆ இலக்கம் 1-5 வரையிலான வினாக்களுக்குப் பொருத்தமான சொற்களை அடைப்பிலுள்ளிருந்து தெரிவு செய்து இடைவெளி நிரப்புக.
 1. இலங்கையின் வடமாகாணம் மாவட்டங்களைக் கொண்டது.
(3,5,4)
 2. வளிக்கோளத்தில் காணப்படும் வாயுக்களின் தாவர வளர்ச்சிக்கு மிகவும் முக்கியமான வாயு வாயுவாகும்.
(ஓட்சிசன், நைதரசன், காபனீரொட்சைட்டு)
 3. இலங்கைக்கு இடம்பெயர்ந்து வரும் பறவைகளில் யும் ஒரு பறவையாகும்.
(வெளவால், காகம், சிட்டுக்குருவி)
 4. இலங்கையின் சமதரையான பகுதிகளில் பயிர்ச் செய்கை இடம்பெறுகின்றது.
(தேயிலை, தென்னை, இறப்பர்)
 5. வீட்டின் அயற்குழலிலுள்ள மரத்தை பயன்படுத்தி மேற்கொள்ளப்படும் கைத்தொழில் கைத்தொழிலாகும்.
(பாரிய, சிறியஅளவிலான, குடிசை)
- ◆ இலக்கம் 6-10 வரையுள்ள வினாக்களில் கொடுக்கப்பட்டுள்ள கூற்றுகள் சரியாயின் ✓() எனவும் பிழையாயின் (✗) எனவும் அடைப்புக்குள் இடுக.
 6. போக்குவரத்தின் போது பருவகால சீட்டுக்கள் அரசாங்கத்தால் இலவசமாக வழங்கப்படுகின்றது. ()
 7. சித்திரத்தை விட திட்டப்படமொன்றில் புவியியல் அம்சங்கள் அமைவு பெற்றுள்ள தூரத்தை துள்ளியமாக அறியலாம். ()
 8. நீராவியானது ஓடுங்கல் நிலையை அடைந்து மழையாக பூமியை நோக்கி வரும். ()
 9. காலநிலைத் தரவுகளை பெற்றுக் கொள்ளல் பாடசாலை மாணவர்களுக்கு மிக முக்கியமானதாகும். ()
 10. மேற்குக்கும் வடக்கிற்கும் இடையில் வடகிழக்குத் திசை காணப்படுகின்றது. ()

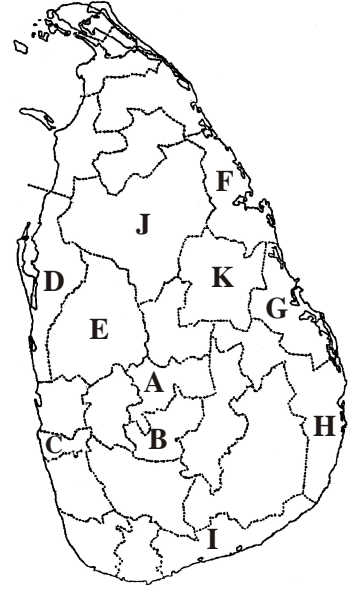
புவியியல் - ஜூனியர் வினா

தரம் : 6


பகுதி II

◆ முதலாம் வினாவுக்கும் வேறு நான்கு வினாக்களுக்கும் விடையளிக்குக.

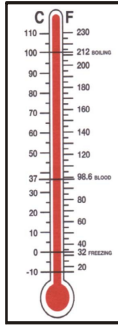
1. (அ) தரப்பட்டுள்ள இலங்கைப்படத்தை அவதானித்து கேட்கப்பட்டுள்ள வினாக்களுக்கு விடையளிக்க.
 - 1) உமது பாடசாலை அமைந்துள்ள மாவட்டத்தை காட்டும் ஆங்கில எழுத்து எது? (2 புள்ளி)
 - 2) இலங்கையின் மிகப் பெரிய, மற்றும் மிகச்சிறிய மாவட்டங்களை காட்டும் ஆங்கில எழுத்தை முறையாக எழுதுக. (2 புள்ளி)
 - 3) கிழக்கு மாகாணத்தை சேர்ந்த மாவட்டங்களில் F எழுத்தால் காட்டப்படும் மாவட்டம் எது? (2 புள்ளி)
 - 4) இலங்கையிலுள்ள மாகாணங்களில் கரையோரத்தை சார்ந்துள்ள மாகாணங்கள் இரண்டை குறிப்பிடுக. (2 புள்ளி)
 - 5) இரண்டு மாவட்டங்களை மட்டும் கொண்ட மாகாணம் எது? (2 புள்ளி)



(ஆ) கீழே காட்டப்படும் நிர்வாக படிமுறைகளை இடைவெளியில் எழுதுக. (6 புள்ளி)



2. கீழே காணப்படும் வானிலையை அளவிடும் கருவிகள் தொடர்பான தகவல்களை பயன்படுத்தி கேட்கப்பட்டுள்ள வினாக்களுக்கு விடை தருக.



X



Y



Z

- 1) X எழுத்தால் காட்டப்படும் உபகரணம் யாது? (2 புள்ளி)
- 2) Y எழுத்தால் காட்டப்பட்ட உபகரணத்தால் அளவிடப்படும் வானிலை மூலகம் எது? (2 புள்ளி)
- 3) Z எழுத்தால் காட்டப்படும் உபகரணத்தை பெயரிட்டு அதனால் அளவிடுப்படும் வானிலை மூலகத்தையும் குறிப்பிடுக. (4 புள்ளி)
- 4) X,Y,Z உபகரணங்களால் அளவிடப்படும் வானிலை மூலகங்களின் அலகுகளை முறையாக குறிப்பிடுக. (3 புள்ளி)

X -

Y -

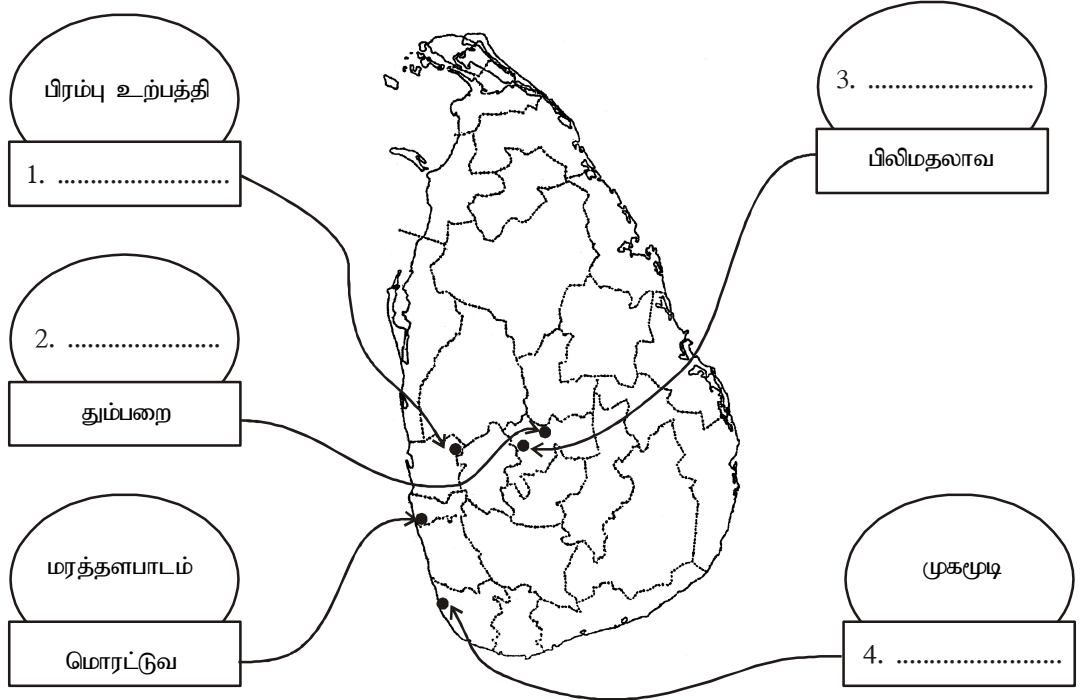
Z -

3. 1) மனிதனால் நிலம் முறையற்ற வித்தில் பயன்படுத்தப்படும் சந்தர்ப்பங்கள் இரண்டை குறிப்பிடுக. (4 புள்ளி)
 2) அடைப்புக்குள் தரப்பட்டுள்ள சொற்களை பயன்படுத்தி கீழ் வரும் அட்டவணையை பூரணப்படுத்துக.

மழை நீர், நீரை சிக்கனமாக பயன்படுத்தல், மண், மரங்களை நடல், காடழிப்பு, மண்ணரிப்பு, காடுகள், விவசாய நடவடிக்கைகள் பாதிப்படைதல், காடழித்தல், மழை நீர்தாங்கிகளை பயன்படுத்தல்.

இயற்கை சூழலின் கூறுகள்	முறையற்ற மனித நடவடிக்கைகள்	இந் நடவடிக்கையின் விளைவுகள்	மாசுபடுதல்/பாதிப்புகளை குறைக்க எடுக்கும் நடவடிக்கைகள்
1.....	நீரை வீண்விரயமாக்கல்	4.....	6.....
2.....	3.....	5.....	7.....

4. 1) பாரம்பரிய தொழினுட்பத்திற்களை அடிப்படையாகக் கொண்ட கைத்தொழில்கள் அமையப்பெற்றுள்ள பின்வரும் இலங்கைப்படத்தினை பயன்படுத்தி இடைவெளிகளை நிரப்புக.




(8 புள்ளி)

- 2) பின்வரும் பிரதேசங்களில் பயிரிடப்படும் பயிர் வகைகள் ஒவ்வொன்றை குறிப்பிடுக.
 சமவெளிப் பிரதேசம் -
 மலைப் பிரதேசம் -
 நதிக்கரைப் பிரதேசம் - (3 புள்ளி)

Grade : 6 , Geography.....

5. 1) கீழே A,B,C,D இனால் காட்டப்படும் சமய ஸ்தலங்களை இனங்கண்டு பெயரிடுக.



A

B

C

D

(4 புள்ளி)

2) இந்த சமய ஸ்தலங்களில் மக்கள் பின்பற்றும் சமயங்களை ஒழுங்கு முறைப்படி குறிப்பிடுக.

A -

B -

C -

D -

(4 புள்ளி)

3) இந்த சமயங்களில் பின்பற்றப்படும் சமய கொண்டாட்டங்கள் ஒவ்வொன்றை குறிப்பிடுக.

(3 புள்ளி)

6. 1) கீழே காணப்படும் புவியியல் அம்சங்களை சரியாக இணைக்குக.

மனிதனால் உருவாக்கப்பட்ட அம்சம்	உயர்நிலம்
இயற்கை அம்சம்	பூங்காக்கள்
	வீதி
	காடு
	நதி
	பயிர்வகைகள்

(6 புள்ளி)

2) பின்வரும் மிருகங்களால் கிடைக்கும் நன்மைகள் ஒவ்வொன்றை எழுதுக.

செண்பகம்	:
கறையான்	:
காகம்	:
மண்புழு	:
கிளி	:

(5 புள்ளி)

7. தரப்பட்டுள்ள அறிவுறுத்தல்களை பயன்படுத்தி பின்வரும் குறுக் கெழுத்து சட்டகத்தை நிரப்புக

1	அ		ல	7	ட
			2		பு
றை				பு	
3	உ	8	பு		11
9		4		ளை	
க					
		5	து	11	றை

இடமிருந்து வலம்

- 1) முகமூடிக் கைத்தொழிலுக்கு பிரசித்தி பெற்ற இடம்
- 2) விஷஜந்துக்களில் ஒன்று
- 3) கடற்கரையோரத்தில் விளையும் அத்தியாவசிமான மூலப் பொருள்
- 4) வானிலையை எதிர்வு கூறுவது
- 5) பாய்கள் உற்பத்திக்கு பிரசித்தி பெற்ற இடம்

மேலிருந்து கீழ்

- 1) கிழக்கு மாகாணத்தின் மாவட்டம் ஒன்று
- 5) நெல்வயல்களை நாசம் செய்யும் பூச்சியினங்களை அழிக்கும்
- 7) இலங்கையின் தலைநகரம் அமைந்துள்ள மாவட்டம்
- 8) வடமேல் மாகாணத்திலுள்ள மாவட்டம் ஒன்று
- 9) கழிவுப் பொருட்களை உண்ணும்
- 11) திட்டப் படமொன்றை வரையும் போது இதனை குறிப்பிடுதல் முக்கியமானதாகும்.

This document was created with Win2PDF available at <http://www.win2pdf.com>.
The unregistered version of Win2PDF is for evaluation or non-commercial use only.
This page will not be added after purchasing Win2PDF.